

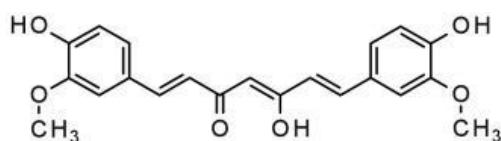
Họ và tên:

Lớp:

BÀI TẬP HÓA

1. Em hãy cho biết biết công thức hóa học này tên gì ?

(Điền vào chỗ trống)

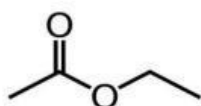


2. Nhóm chức -CHO là của hợp chất nào sau đây?

(Chọn vào ô trống để chọn đáp án đúng)

- A. Carboxylic acid
- B. Aldehyde
- C. Alcohol
- D. Ketone

3. Nghe và đọc tên hợp chất hữu cơ



Ethyl acetate

4. Nối đáp án đúng

Phổ hồng ngoại của Alcohol

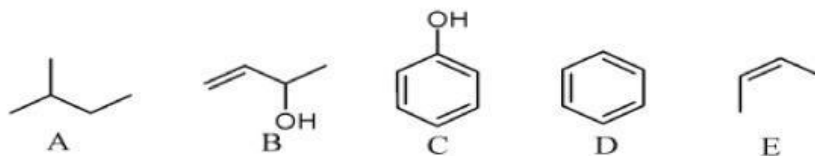
Hấp thụ vùng 3500-3200 cm^{-1}

Phổ hồng ngoại của Carboxylic acid

Hấp thụ vùng 3300-2500 cm^{-1}

5. Hợp chất nào có dẫn xuất và không dẫn xuất hydrocarbon ?

(Chọn hợp chất kéo và thả vào ô trống)



Dẫn xuất hydrocarbon	Không dẫn xuất hydrocarbon

6. Tìm từ khóa về hợp chất hữu cơ

a	g	i	t	y	o	p	m
g	f	l	o	w	e	r	s
l	q	g	u	e	s	b	q
d	r	h	e	c	j	c	z
v	g	k	s	a	o	x	k
n	y	h	o	j	l	s	i
f	r	u	c	t	o	s	e