

# LKPD

## MATEMATIKA

KELAS V SD/MI

Nama:

Kelas:



Nama : \_\_\_\_\_ Kelas : \_\_\_\_\_

# LATIHAN KELIPATAN BILANGAN



## PETUNJUK

Bacalah setiap soal dengan teliti. Jawablah semua soal tentang kelipatan bilangan dengan benar!



1.

6, 12, 18, 24, ... Deret ini merupakan kelipatan dari bilangan berapa?

.....

2.

Sebutkan 5 kelipatan dari angka 7!

.....

3.

Sebutkan kelipatan 4 yang kurang dari 30!

.....

4.

Kelipatan manakah yang lebih banyak, 3 atau 7? Jelaskan singkat!

.....

5.

Lengkapi kelipatan dari 8 berikut:

8, 16, \_\_\_\_, \_\_\_\_, 40, ....

Nama : \_\_\_\_\_ Kelas : \_\_\_\_\_

# MENCOCOKKAN KELIPATAN BILANGAN



## PETUNJUK

Tarik garis untuk mencocokkan bilangan dengan kelipatan yang benar!

3

14, 21, 28, 35, ...

4

8, 12, 16, 20, ...

5

10, 15, 20, 25, ...

6

12, 18, 24, 30, ...

7

18, 27, 36, 45, ...

8

16, 24, 32, 40, ...

9

6, 9, 12, 15, ...

10

20, 30, 40, 50, ...

Nama : \_\_\_\_\_ Kelas : \_\_\_\_\_

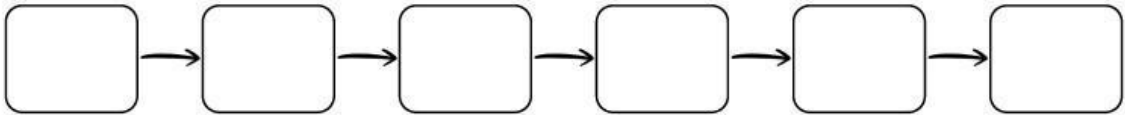
# MELENGKAPI KELIPATAN BILANGAN



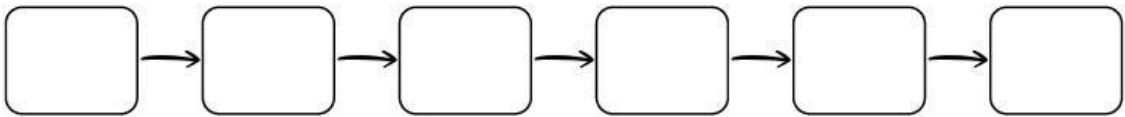
## PETUNJUK

Lengkapilah kelipatan setiap bilangan secara berurutan.  
Isilah kotak dengan jawaban yang benar!

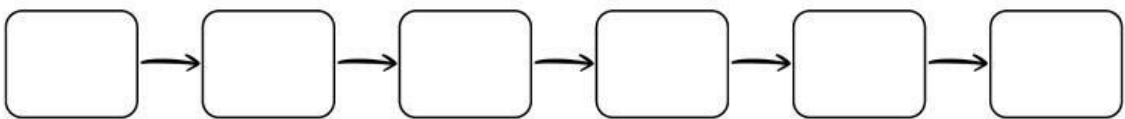
1. Lengkapi kelipatan dari 4 !



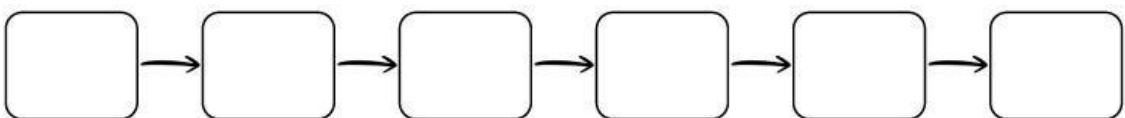
2. Lengkapi kelipatan dari 6 !



3. Lengkapi kelipatan dari 5 !



4. Lengkapi kelipatan dari 8 !



5. Lengkapi kelipatan dari 3 !

