


Elektronik Lembar Kerja Peserta Didik

E-LKPD

Matematika

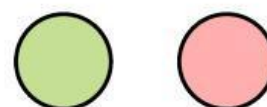
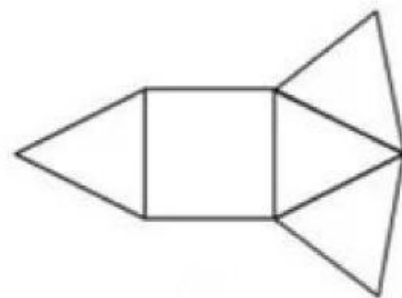
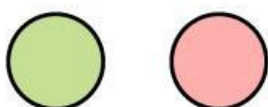
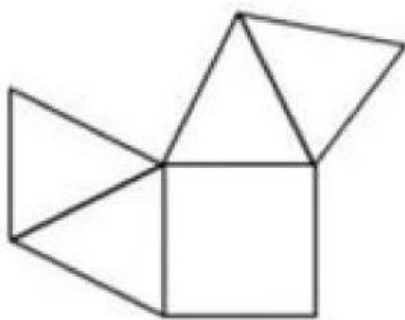
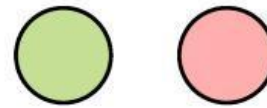
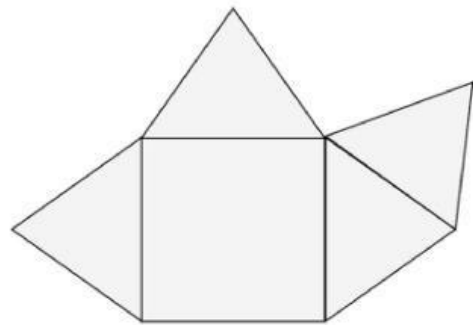
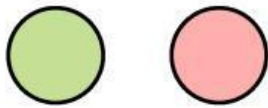
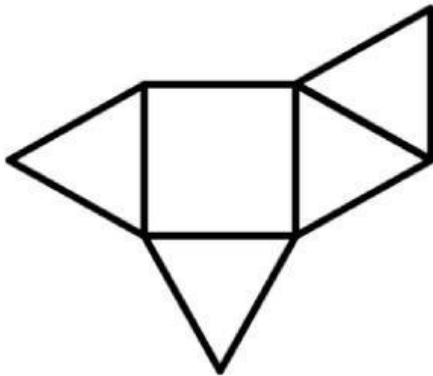


Nama Kelompok: _____

Kelas: _____

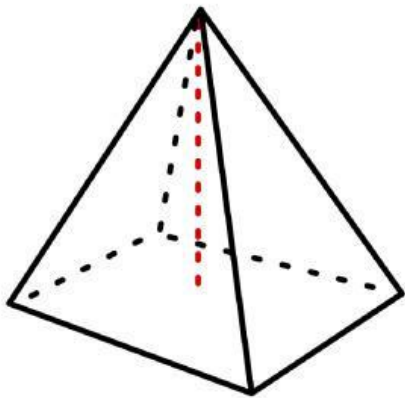
Membedakan Kerangka Limas yang Benar

Lihatlah kerangka di bawah ini kemudian beri tanda centang pada lingkaran hijau jika kerangka tersebut bisa dibuat bangun prisma maupun limas dengan benar, dan centang pada lingkaran merah jika salah.



Menemukan dan Menerapkan Rumus Luas dan Volume Bangun Ruang Limas

Temukan dan terapkan rumus luas dan volume bangun ruang di bawah ini dengan lengkap dan cermat.



Sebuah gazebo di taman wisata memiliki atap berbentuk limas segi empat. Alas atap berbentuk persegi dengan panjang sisi 4 m. Tinggi sisi tegak (apotema) adalah 3 m.

Pengelola akan memasang genteng pada seluruh bagian atap. Hitung luas seluruh permukaan atap yang akan dipasang genteng. Jika setiap meter persegi membutuhkan 25 buah genteng, berapa banyak genteng yang diperlukan?