

LKPD MATEMATIKA KELAS IV






Simetri Lipat Bangun Datar

Nama : Kelas : Tanggal :

Petunjuk: Amatilah gambar dengan teliti. Kerjakan dengan rapi dan jujur ya!







A. MENJODOHKAN GAMBAR

Tarik garis dari gambar bangun datar ke jumlah simetri lipat yang tepat!

- | | | | |
|---|---|---|---------------|
| 1 |  | • | 1 |
| 2 |  | • | 2 |
| 3 |  | • | 3 |
| 4 |  | • | 4 |
| 5 |  | • | tak terhingga |


B. KELOMPOKKAN BANGUN DATAR

Berilah tanda ✓ pada bangun yang memiliki simetri lipat!

 Persegi <input type="checkbox"/>	 Jajaran Genjang <input type="checkbox"/>	 Segitiga Sama Sisi <input type="checkbox"/>
 Layang-layang <input type="checkbox"/>	 Trapezium Sama Kaki <input type="checkbox"/>	 Lingkaran <input type="checkbox"/>

C. MEMBANTU PUTRI MADING

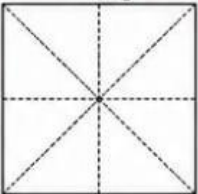
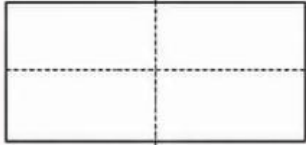
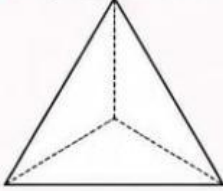
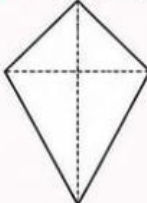
Putri ingin menghias mading sekolah dengan bangun yang simetris.
Lingkari bangun yang cocok digunakan!



Mengapa kamu memilih bangun tersebut?










D. MEWARNAI GARIS SIMETRI

Warnailah garis simetri pada gambar berikut!

1 Persegi 	2 Persegi Panjang 
3 Segitiga Sama Sisi 	4 Layang-layang 

E. REFLEKSI CERIA

Beri tanda ✓ pada kolom yang sesuai!

	Ya	Belum
 Saya dapat mengenali bangun yang memiliki simetri lipat.		
 Saya dapat menentukan jumlah simetri lipat.		
 Saya senang belajar hari ini.		

Kesimpulanku

Hari ini saya belajar tentang

Belajar itu menyenangkan! Tetap semangat!