










Evaluación Matemática






Nombre: _____

- Lea las instrucciones y resuelva los ejercicios

1. Arrastre el signo según corresponda en cada fila (mayor que- menor que- igual)

74	<input type="text"/>	64			
28	<input type="text"/>	28			
35	<input type="text"/>	53			

2. Realice la siguiente secuencia numérica

 $+2$  $+3$  $+2$  $+5$ 

3. Una con una líneas las expresiones que indiquen la misma cantidad

8+4	quince	
10+5	veintitrés	
29+2	doce	
18+4	treinta y uno	

¡Lo hiciste fabuloso!

