



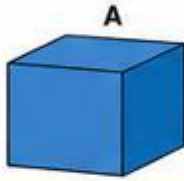
FICHA 2 – ADAPTACIÓN INDIVIDUALIZADA

RECONOZCO FIGURAS GEOMÉTRICAS




Nombre: _____

1 ¿QUÉ FIGURA ES? Selecciona el nombre correcto.







2 UNE LA FIGURA CON SU NOMBRE.



•



•



•

•

CILINDRO

•

ESFERA

•

CUBO

3 ARRASTRA LA PALABRA CORRECTA.



CUBO



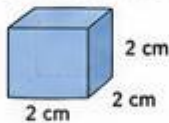
CILINDRO



ESFERA

4 CALCULA.

Un cubo mide 2 cm de lado.



Volumen = _____ cm³

5 VERDADERO O FALSO.

1. El cubo tiene 6 caras.

V

F

2. La esfera tiene esquinas.

V

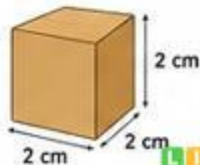
F

6 ACTIVIDAD FINAL.

Una caja de ordenador tiene forma de cubo.

Mide 2 cm de lado.

¿Cuál es su volumen?



Volumen = _____ cm³

PUNTUACIÓN FINAL

select: %