











# REPASO TEMA 4. MATEMÁTICAS 1º



■ FIJATE EL LUGAR QUE OCUPAN LAS FRUTAS:

1	2		4	5	6	7	8		10
	12	13	14		16	17	18	19	
21		23	24	25			28	29	30
31	32	33		35	36	37		39	40

¿QUÉ NÚMERO ESTÁ DEBAJO DE CADA FRUTA?

