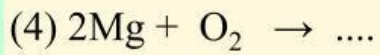
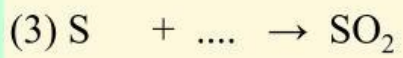
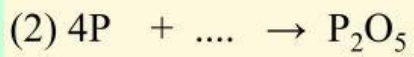



Bài 1. Cho các sơ đồ phản ứng sau:



Hoàn thành các phương trình hoá học và đọc tên các sản phẩm tạo thành

Bài 2. Gọi tên oxide

SO₂ :

P₂O₅ :

N₂O₅ :

CO₂ :

