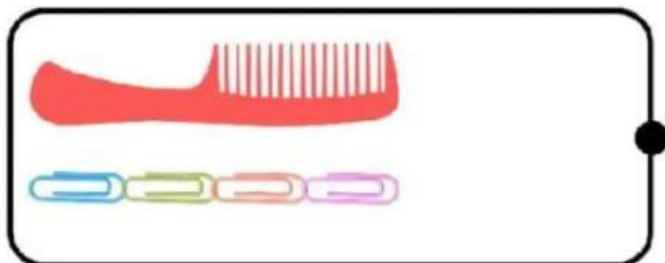


Nama :

Kelas :

MENGUKUR PANJANG BENDA DENGAN SATUAN TAK BAKU

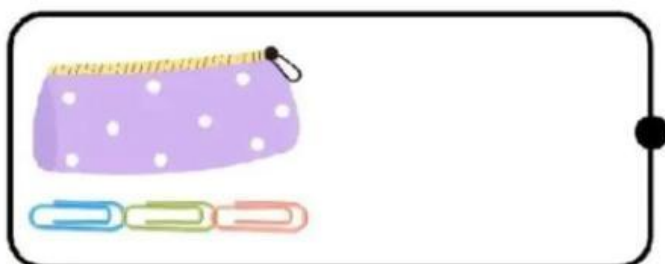
Tariklah garis untuk hasil pengukuran panjang yang tepat!




3 klip kertas



6 klip kertas



2 klip kertas



4 klip kertas



5 klip kertas