



THB

Matematika

Tema: Analisis Data



Nama: _____ Kelas: _____









Kelas VI Sekolah Dasar

Nama:

Kelas:

Kegiatan Drag and Drop Activity

Instruksi: Perhatikan gambar aktivitas siswa di bawah ini. Hitunglah jumlah aktivitas siswa lalu lengkapilah diagram turus pada tabel yang tersedia.

Nama Aktivitas	Turus	Frekuensi (Jumlah)
		<input type="text"/>
		<input type="text"/>
		<input type="text"/>
		<input type="text"/>

15

5

8

17

Jawablah pertanyaan berikut berdasarkan tabel data!

Aktivitas apa yang paling banyak diminati siswa?

Aktivitas apa yang paling sedikit diminati siswa?

Hitunglah seluruh aktivitas yang diminati siswa?

Adakah aktivitas dengan jumlah peminat yang sama?
