




PROBLEMI? NESSUN PROBLEMA


SCEGLI QUALE OPERAZIONE È NECESSARIA PER RISOLVERE I SEGUENTI PROBLEMI

1. Alcuni ragazzi si suddividono 36 figurine, in parti uguali. Ciascun ragazzo ne riceve 6. Quanti sono i ragazzi?	ADDIZIONE + MULTIPLICAZIONE X	DIVISIONE : SOTTRAZIONE -
2. Maria sta facendo una cura dimagrante. La settimana scorsa ha perso 7 ettogrammi e questa settimana ne ha persi 8. Quanti ettogrammi ha perso in tutto?	ADDIZIONE + MULTIPLICAZIONE X	DIVISIONE : SOTTRAZIONE -
3. Una dozzina di uova corrisponde a 12 uova. Quante uova ci sono in 6 dozzine?	ADDIZIONE + MULTIPLICAZIONE X	DIVISIONE : SOTTRAZIONE -
4. Un nastro di stoffa è lungo 35 m. Viene tagliato in 5 pezzi uguali. Quanto è lungo ciascun pezzo?	ADDIZIONE + MULTIPLICAZIONE X	DIVISIONE : SOTTRAZIONE -
5. Il papà ha comprato arance e mele per un peso totale di 5 kg. Sapendo che le arance pesano 3 kg, quanto pesano le mele?	ADDIZIONE + MULTIPLICAZIONE X	DIVISIONE : SOTTRAZIONE -
6. Marco ha 7 libri meno di Roberta. Roberta ha 36 libri. Quanti libri ha Marco?	ADDIZIONE + MULTIPLICAZIONE X	DIVISIONE : SOTTRAZIONE -
7. Marco impiega 6 minuti per confezionare un sacchetto di carta. Quanto tempo impiega per confezionare 35 sacchetti?	ADDIZIONE + MULTIPLICAZIONE X	DIVISIONE : SOTTRAZIONE -

ES. 2 RISOLVI I SEGUENTI PORBLEMI RACCONTATI CON LE IMMAGINI

 <p>Un cagnolino, una gallina e un gatto pesano complessivamente 15 kg.</p>	 <p>Un cagnolino e una gallina pesano 11 kg.</p>	 <p>Due galline pesano 6 kg.</p>
<p>Quanto pesa il cagnolino Bau? Quanto pesa il gatto Miao?</p>		

 <p>Luca ha comprato due yo-yo e una pallina e ha speso € 11.</p>	 <p>Marco ha comprato due palline e una macchinina e ha speso € 8.</p>	 <p>Andrea ha comprato una pallina e una macchinina e ha speso € 5.</p>
<p>Quanto costa la pallina?</p>	<p>Quanto costa la macchinina?</p>	<p>Quanto costa lo yo-yo?</p>

 <p>2 tavolette di cioccolata e un brik di succo costano € 13</p>	 <p>3 brik di succo costano € 9</p>
<p>Quanto costa la tavoletta di cioccolata?</p>	<p>Quanto costa il brik di succo?</p>