

☀️ FICHA INTERACTIVA DE MATEMÁTICA ☀️

➕ ADICIÓN Y SUSTRACCIÓN ➖
3.º DE EDUCACIÓN PRIMARIA

👤 Nombre: _____

📅 Fecha: _____

🎯 Objetivo: Resolver ejercicios de adición y sustracción utilizando imágenes y situaciones de la vida cotidiana.

🍎 ACTIVIDAD 1: ¡Resuelve las sumas de las frutas! 🍎

Observa las frutas y realiza las sumas.

🍎 Manzanas: $12 + 15 =$ _____

🍊 Naranjas: $24 + 13 =$ _____

🍌 Plátanos: $18 + 21 =$ _____

🍇 Uvas: $16 + 12 =$ _____


🍓 Fresas: $25 + 14 =$ _____


🐰 ACTIVIDAD 2: ¡Ayuda a los conejitos a resolver las operaciones! 🐰


🐰 $24 + 15 =$ _____



🐰 $36 + 22 =$ _____


🐰 $47 + 13 =$ _____

 $58 - 24 = \underline{\hspace{2cm}}$


 $73 - 31 = \underline{\hspace{2cm}}$

 $82 - 45 = \underline{\hspace{2cm}}$


 **ACTIVIDAD 3: ¡Colorea la respuesta correcta!** 

 $25 + 14 =$


- 37 39 41

 $48 - 16 =$

- 32 30 34

 $36 + 22 =$

- 56 58 60

 $50 - 18 =$

- 32 30 34

★ **ACTIVIDAD 4: Une con una línea la operación con su respuesta.** ★

$25 + 10$

35

$50 - 15$


42


$30 + 12$

40

$60 - 20$


35

 **ACTIVIDAD 5: Resuelve los problemas matemáticos.**

 **Ana tiene 26 globos y recibe 13 globos más.**


¿Cuántos globos tiene en total?

Respuesta: _____ globos.

 **Luis tenía 48 caramelos y regaló 16.**



¿Cuántos caramelos le quedan?

Respuesta: _____ caramelos.

 **En la biblioteca hay 35 cuentos y llegan 24 cuentos más.**

¿Cuántos cuentos hay ahora?

Respuesta: _____ cuentos.

 **ACTIVIDAD 6: ¡Escribe si es SUMA o RESTA!** 

Observa la operación y escribe: SUMA o RESTA.

+ $15 + 12 =$ _____

- $48 - 16 =$ _____

+ $32 + 25 =$ _____

- $70 - 20 =$ _____