






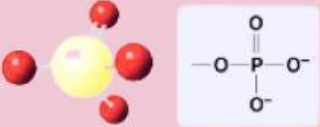


## เรื่อง สารประกอบคาร์บอนในสิ่งมีชีวิต

ชื่อ-สกุล.....ชั้น.....เลขที่.....

คำชี้แจง : ให้นักเรียนตอบคำถามต่อไปนี้ให้ถูกต้อง

1. จงเติมคำตอบในตารางให้ถูกต้อง

โครงสร้าง	ชื่อหมู่ฟังก์ชัน	ตัวอย่างของแหล่งที่พบ
		
		
		
		
		
		



# ใบงาน 6.1

## เรื่อง สารประกอบคาร์บอนในสิ่งมีชีวิต

ชื่อ-สกุล..... ชั้น..... เลขที่.....

คำชี้แจง : ให้นักเรียนตอบคำถามต่อไปนี้ให้ถูกต้อง

2. พิจารณาสูตรโครงสร้างเคมีที่กำหนดให้ แล้วระบุชื่อหมู่ฟังก์ชัน (Functional group)



3. จงเติมชื่อของสาร สารชีวโมเลกุล หรือโครงสร้างที่ปรากฏในตารางให้ถูกต้อง

<input type="text"/>	<input type="text"/>	ตัวอย่างองค์ประกอบภายในเซลล์
<input type="text"/>	<input type="text"/>	<input type="text"/>
<input type="text"/>	<input type="text"/>	<input type="text"/>
<input type="text"/>	<input type="text"/>	<input type="text"/>