

IDENTIFICACION DE LA MATERIA Y ENERGÍA EN EL ECOSISTEMA



NOMBRE DEL ALUMNO: _____



GRUPO: _____



NÚMERO DE LISTA: _____



INDICACIONES: UBICA LOS CUADROS DE LOS CONCEPTOS CON SU RESPECTIVA IMAGEN.



-
-
-



 → 
 →

 → 
 →

 → 
 →

 → 
 →

 → 
 →

 → 
 →