

LKPD

ILMU PENGETAHUAN ALAM

KELAS 3 SEKOLAH DASAR

Nama :

Kelas :



TUJUAN PEMBELAJARAN

01

Siswa dapat membekali siswa dengan pemahaman yang menyeluruh tentang kehidupan sosial

02

Siswa dapat memahami tentang fenomena alam

03

Siswa dapat mengetahui keterampilan memecahkan masalah,



SOAL PILIHAN GANDA

Jawablah Pertanyaan di bawah ini dengan benar!

A. Pilihan Ganda

1. Benda yang dapat ditarik dengan kuat oleh magnet disebut benda...

- A. Feromagnetik
- B. Paramagnetik
- C. Diamagnetik
- D. Nonmagnetik

2. Fungsi utama dari stomata yang terdapat pada daun tumbuhan adalah untuk ...

- A. Menyerap air dari udara
- B. Tempat terjadinya penguapan dan pertukaran gas
- C. Melindungi daun dari serangan hama
- D. Mengangkut hasil fotosintesis ke seluruh tubuh

3. Pada sebuah rantai makanan di ekosistem sawah, ular berperan sebagai konsumen II. Makhluk hidup yang paling tepat menduduki posisi konsumen I adalah ...

- A. Padi
- B. Belalang
- C. Elang
- D. Jamur

4. Alat pembayaran sah yang digunakan dalam kegiatan ekonomi masyarakat Indonesia sehari-hari adalah ...

- A. Uang giral
- B. Uang kartal
- C. Kartu kredit
- D. Cek bank

5. Energi alternatif yang memanfaatkan panas dari dalam bumi dinamakan energi ...

- A. Biomassa
- B. Geotermal
- C. Hidroelektrik
- D. Angin



6. Penulisan yang benar adalah ...
- a. hari kemerdekaan indonesia
 - b. Hari Kemerdekaan indonesia
 - c. hari Kemerdekaan Indonesia
 - d. Hari Kemerdekaan Indonesia
7. Penulisan nama sekolah yang benar adalah ...
- a. sd harapan bangsa
 - b. SD harapan bangsa
 - c. sd Harapan Bangsa
 - d. SD Harapan Bangsa
8. Huruf kapital tidak digunakan pada ...
- a. nama orang
 - b. awal kalimat
 - c. nama tempat
 - d. kata sambung
9. Penulisan yang tepat adalah ...
- a. presiden joko widodo
 - b. Presiden joko widodo
 - c. presiden Joko Widodo
 - d. Presiden Joko Widodo
10. Huruf kapital digunakan untuk menulis ...
- a. nama binatang
 - b. nama hari
 - c. kata kerja
 - d. nama hari



Nilai

Catatan Guru





SOAL ESSAY

Jawablah pertanyaan berikut!



1. Sebutkan dua benda di rumahmu yang termasuk benda padat!

2. Apa fungsi atau kegunaan dari mata ?

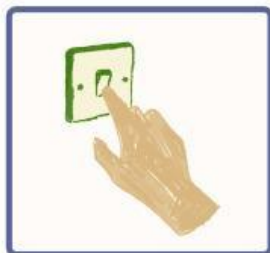
3. Mengapa tanaman atau bunga di pot harus disiram?

SOAL Menjodohkan

Hubungkan gambar kegiatan sehari-hari dengan cara yang dapat dilakukan untuk menghemat energi di bawah ini.




Mencabut saklar barang elektronik jika tidak digunakan.




Mematikan AC ketika udara sejuk.



Mematikan lampu saat siang hari.



Mencuci pakaian dalam jumlah banyak.



Mengganti lampu dengan lampu LED.

Mengelompokkan Hewan

Gunting gambar hewan, lalu tempelkan pada kolom yang sesuai berdasarkan jumlah kakinya!

Kaki dua

Kaki empat

