


TRASLACIONES Y GIROS


Observa la imagen y responde:



- Para ir hacia el carrito de helados Lina debe trasladarse a la
- Desde donde está Lina hasta el carrito de helados hay _____ pasos.
- Si después de comprar su helado, Lina quiere volver por su pelota, ¿hacia dónde debe trasladarse? ¿Cuántos pasos? _____

Si te paras frente a un compañero, ¿en qué posición quedas si giras media vuelta a la derecha?


Encierra la imagen correcta



Delinea los giros de las flechas de acuerdo con la clave

D Giran hacia la derecha

I Giran hacia la izquierda



Daniel está parado en una baldosa como lo indican sus pies. Él avanza dos baldosas hacia adelante, gira un cuarto de vuelta hacia la izquierda y avanza otras dos baldosas.

Luego, gira un cuarto de vuelta a su derecha y avanza una baldosa.

Colorea la baldosa en la que quedó Daniel.

