


















BÀI TẬP SO SÁNH CHIỀU DÀI 3 ĐỐI TƯỢNG

Lứa tuổi: MG 5 - 6 tuổi - GVTH: Nguyễn Châu Ngọc Bích







1. Bé hãy kéo - thả sắp xếp chiều dài từ ngắn nhất đến dài nhất:

		
1 	2 	3 







2. Bé hãy so sánh và nối theo thứ tự từ dài nhất đến ngắn nhất:

		 (1)
		 (2)
		 (3)




3. Bé hãy chọn số thứ tự từ nhỏ đến lớn cho đồ vật từ ngắn đến dài

<input type="text"/>	
<input type="text"/>	
<input type="text"/>	
<input type="text"/>	
<input type="text"/>	
<input type="text"/>	

4. Quan sát chiều dài của bút trên thước đo và điền vào ô trống

a)

	<input type="text"/> cm
	<input type="text"/> cm
	<input type="text"/> cm