

Nama Siswa: _____

No Absen: _____

Kelas: _____

Penilaian:



BILANGAN CACAH 1-20



Lengkapilah bilangan cacah di bawah ini dengan benar.



Masukan guru

Paraf guru

Paraf ortu

Nama :

Kelas :

PENJUMLAHAN SAMPAI 20

Kerjakanlah operasi hitung penjumlahan matematika di bawah ini dengan tepat!

$$\begin{array}{r} 9 \\ 6 \\ \hline \square \square \end{array} +$$

$$\begin{array}{r} 8 \\ 5 \\ \hline \square \square \end{array} +$$

$$\begin{array}{r} 9 \\ 7 \\ \hline \square \square \end{array} +$$

$$\begin{array}{r} 10 \\ 4 \\ \hline \square \square \end{array} +$$

$$\begin{array}{r} 11 \\ 7 \\ \hline \square \square \end{array} +$$

$$\begin{array}{r} 12 \\ 5 \\ \hline \square \square \end{array} +$$

$$\begin{array}{r} 13 \\ 6 \\ \hline \square \square \end{array} +$$

$$\begin{array}{r} 14 \\ 3 \\ \hline \square \square \end{array} +$$

$$\begin{array}{r} 15 \\ 4 \\ \hline \square \square \end{array} +$$

$$\begin{array}{r} 16 \\ 4 \\ \hline \square \square \end{array} +$$

$$\begin{array}{r} 17 \\ 2 \\ \hline \square \square \end{array} +$$


$$\begin{array}{r} 18 \\ 1 \\ \hline \square \square \end{array} +$$




MUDAHNYA BELAJAR PENGURANGAN



Hitunglah pengurangan angka di bawah ini dengan benar.



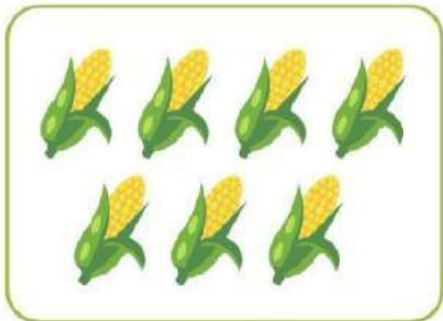
$2 - 1 =$



$4 - 3 =$




$5 - 3 =$




$7 - 4 =$




$9 - 5 =$




$8 - 2 =$



$7 - 1 =$



$10 - 2 =$



$15 - 5 =$

Nama: _____

Nilai: _____ Paraf: _____

Kelas: _____ Absen No: _____

Penilaian:



Nama:

Absen:

Membandingkan bilangan

Bandingkan angka di bawah ini menggunakan tanda (>) lebih dari,
(<) kurang dari dengan tepat!

