

LATIHAN

NAMA :

KELAS :

Keliling Bangun Gabungan

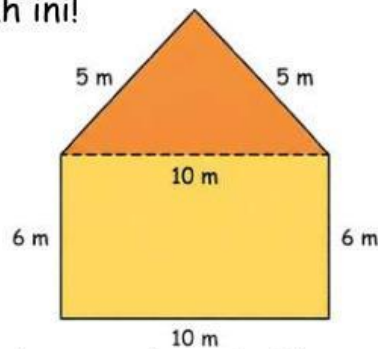
Petunjuk Pengerjaan

1. Bacalah setiap soal dengan teliti.
2. Tuliskan jawabanmu secara lengkap dan jelas.
3. Gunakan langkah penyelesaian yang tepat.
4. Periksa kembali jawabanmu sebelum dikirim.



Soal 1

Perhatikan gambar di bawah ini!



Tentukan keliling bangun gabungan tersebut!

Jawaban:

Diketahui:

Ditanyakan:

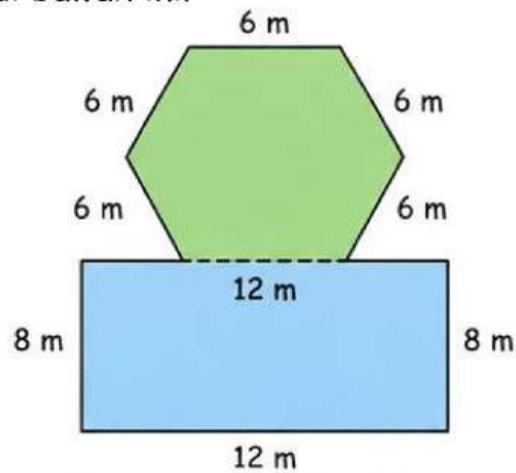
Penyelesaian:

Jadi,



Soal 2

Perhatikan gambar di bawah ini!



Tentukan keliling bangun gabungan tersebut!

Jawaban:

Diketahui:

Ditanyakan:

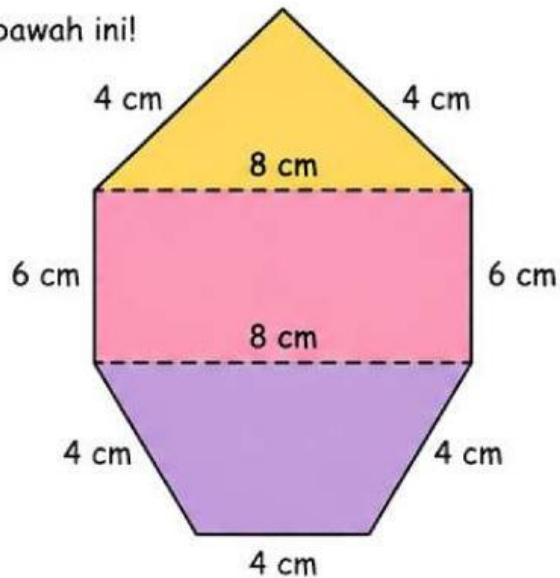
Penyelesaian:

Jadi,



Soal 3

Perhatikan gambar di bawah ini!



Tentukan keliling bangun gabungan tersebut!

Jawaban:

Diketahui:

Ditanyakan:

Penyelesaian:

Jadi,

Hebat!

Kamu telah sampai di akhir pembelajaran.

Teruslah yakin pada kemampuanmu dan jangan pernah ragu untuk belajar hal-hal baru.

Terus semangat belajar dan raihlah impianmu! 

