



BELAJAR NILAI TEMPAT



Isilah jawaban di bawah ini dengan benar!

Nama :

Kelas :

A. Pilihan Ganda

1. Bilangan 286 memiliki angka 8 pada tempat ...

- a. Satuan
- b. Puluhan
- c. Ratusan
- d. Ribuan

2. Nilai ratusan dari bilangan 731 adalah ...

- a. Satu
- b. Tiga
- c. Tujuh
- d. Tiga puluh satu

3. Nilai tempat angka 7 pada bilangan 347 adalah ...

- a. Satuan
- b. Puluhan
- c. Ratusan
- d. Ribuan

NAMA :

KELAS :

SOAL KENAMPAKAN ALAM

Coba jelaskan secara singkat dari soal kenampakan alam berikut ini!

- 1** Apa yang dimaksud dengan kenampakan alam?
Sebutkan 2 contoh kenampakan alam!

.....

.....

.....

- 2** Apa yang terjadi jika gunung berapi meletus?

.....

.....

.....

- 3** Sebutkan manfaat sungai bagi kehidupan manusia!

.....

.....




.....

Nama:

Kelas:

Tanggal:

Cocokkan warna ikan dengan aquarium lalu tarik garis.



Nama :

Kelas :

Gunting dan tempelkan gambar pada kolom yang sesuai

Di makan

Tidak bisa

