



# ใบกิจกรรม

วิชาวิทยาการคำนวณ


ป.4


ชื่อ..... ชั้น ..... เลขที่ .....


เรื่อง วิธีการแก้ปัญหาโดยใช้เหตุผลเชิงตรรกะ

คำชี้แจง : ให้นักเรียนพิจารณารูปแบบต่อไปนี้ แล้วเติมคำตอบ A , B , C ลงในช่องที่กำหนดให้ถูกต้อง


1. 


A 


B 

C 

2. 

A 

B 

C 

3. 

A 3b 24

B 13 47

C 24 3b


4. 


A b 3


B 3 b

C 7 8

5. 

A 

B 

C 



# ใบกิจกรรม







วิชาวิทยาการคำนวณ

ป.4







6. \_\_\_\_\_ ★ ▼ ★ ▲ \_\_\_\_\_

- A ★ ▼
- B ▼ ▼
- C ★ ▲










7.    \_\_\_\_\_   \_\_\_\_\_

- A  
- B  
- C  

8.  \_\_\_\_\_  \_\_\_\_\_  

- A  
- B  
- C  

9. \_\_\_\_\_      

- A   
- B   
- C   

10.  \_\_\_\_\_  \_\_\_\_\_ 27 36 45

- A 9 17
- B 9 18
- C 3 9