

LKPD

MATEMATIKA

Hitung Buah dan Hewan!

-  +  = 5 apel
-  +  = 7 pisang
-  +  = 5 kucing
-  -  = 3

3 apel + 2 apel
= 5 apel!

3 + 2 = 5
4 - 1 = 3
2 x 3 = 6
Catatanku




Ayo hitung buah dan hewan!

NAMA :

KELAS :

MARI MENGHITUNG

HITUNGLAH JUMLAH GAMBAR BUAH DIBAWAH INI, LALU TULIS JAWABANMU DIKOTAK YANG TELAH KAMI SEDIAKAN.



2

HITUNGLAH JUMLAH HEWAN DIBAWAH INI SESUAI SPESIES MASING-MASING.



=



=



=

3

BERHITUNG DAN MENCOCOKKAN

HITUNGLAH GAMBAR DIBAWAH INI LALU COCOKKAN DENGAN ANGKA YANG SESUAI DENGAN JUMLAH BENDA DISAMPINGNYA



•

• 3



•

• 5



•

• 1



•

• 4



•

• 2



•

• 6

AYO ISI ANGKA APEL YANG HILANG DIAPEL-
APEL INI SUPAYA POHONNYA PENUH KEMBALI.



MENGHITUNG BUAH DAN HEWAN

