































STAR MATH EARTH










คิดเลขเร็ว









1  2  3 
 $99 + 8 = \square$
1 3  5  3

3    
 $7 \times 4 = \square$
     

5    
 $64 \div 8 = \square$
    

2   
 $88 - 7 = \square$
   

4   
 $6 \times 9 = \square$
     

6    
 $28 + 3 = \square$
   

โจทย์ปัญหา

1. โฉมปาดานี้มีวันหยุด 3 วัน เป็นวันมาฆบูชาที่วัน วัน

2. เดือนนี้มีวันหยุด 8 วัน วันมาฆบูชา 23 วัน เดือนนี้มีกี่วัน วัน

ทำทาย

1. งานชิ้นหนึ่งต้องใช้เวลาทำ 20 ชั่วโมง ถ้าฉันแบ่งทำวันละ 2 ชั่วโมง จะใช้เวลาทำกี่วัน วัน

2.  +  +  = 18

จงหา  =