


LKPD

lembar kerja peserta didik

Nama: _____ Kelas: _____



PILIHAN GANDA

Makhluk Hidup Punya Ciri Khas!

Pilih jawaban yang benar a,b dan c!!!

1



Anak kucing yang kecil akan ____

- a. Tetap kecil
- b. Bertambah besar
- c. Tidak berubah

2



Tanaman yang sehat akan ____

- a. Layu
- b. Tumbuh tinggi
- c. Kering

3




Manusia bernapas menggunakan ____

- a. Insang
- b. Hidung dan paru-paru
- c. Mulut dan tangan

Menjawab Pertanyaan

Perhatikan diagram berikut kemudian jawablah setiap soal di bawah ini dengan benar.

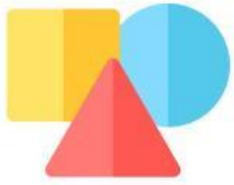
Diagram Buah Kesukaan



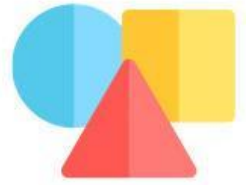
1 Buah apa yang paling banyak disukai?

2 Buah apa yang paling sedikit disukai?


3 Berapa jumlah anak yang menyukai buah pisang?



BANGUN DATAR




Tarik garis untuk memasangkan gambar bangun datar dengan nama yang tepat.



Persegi panjang



Segitiga



Jajar genjang

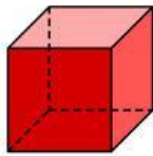


Lingkaran

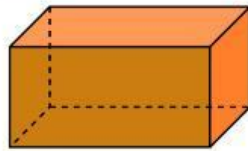


Persegi

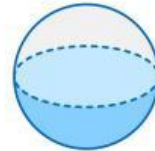
Mengelompokkan Bangun Ruang



Kubus



Balok



Bola

