

LKPD

MATEMATIKA

Sekolah Dasar



Nama:

Kelas:

SOAL CERITA PENJUMLAHAN BERGAMBAR

LATIHAN SOAL PILIHAN GANDA



PETUNJUK :

Kerjakan soal dibawah dengan seksama!

1. Nana membantu ibunya belanja di supermarket, di keranjang biru dia mengambil 4 buah apel merah dan di keranjang hijau dia mengambil 3 buah jeruk. Nana ingin tahu berapa jumlah buah yang dia beli. Jadi berapa total semua buah yang Nana dan ibu beli

a. 6 buah

c. 7 buah

b. 8 buah



2. Di taman belakang sekolah ada 8 siswa bermain petak umpet, 2 siswa perempuan bermain ayunan dan 3 siswa bermain perosotan. Jika bu guru ingin mengajak semua siswa bermain bersama, maka berapa siswa yang akan ikut bermain?

a. 13 siswa

c. 10 siswa

b. 16 siswa



3. Bu Diah akan menyusun rak buku di perpustakaan, jika dirak atas ada 5 buku cerita dan di rak bawah ada 7 buku mata pelajaran. Maka hitunglah berapa total buku yang akan Bu Diah susun ke dalam rak buku

a. 12 buku

c. 10 buku

b. 15 buku




Latihan Soal Cerita Matematika

Bacalah cerita berikut dan jawablah pertanyaan berikut!

Kebun Apel Milik Pak Ketut

Pak Ketut memiliki kebun apel dengan 150 pohon. Setiap pohon menghasilkan sekitar 20 apel per musim. Ia berencana menjual apelnya ke pasar, tetapi 200 apel rusak terkena hama. Jika setiap apel dijual seharga Rp2.000, berapa uang yang akan Pak Ketut peroleh dari hasil panennya?



Pertanyaan:

1. Berapa banyak apel yang dihasilkan semua pohon di kebun Pak Ketut?

2. Berapa banyak apel yang tersisa setelah 200 apel rusak terkena hama?

3. Jika setiap apel dijual Rp2.000, berapa uang yang diperoleh Pak Ketut untuk satu apel?



COCOKKAN SOAL DENGAN JAWABAN



Pasangkan Soal dengan Hasilnya!

Tarik garis dari soal ke jawabannya yang benar!

$2 + 3$

8

$5 - 2$

4

$4 + 4$

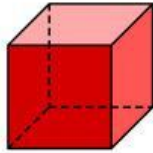
3

$7 - 3$

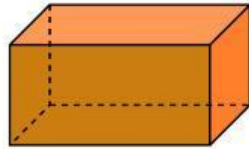
5

Mengelompokkan Bangun Ruang

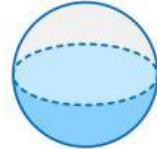
Seret gambar di bawah ini dan tempelkan sesuai dengan bentuk bangun ruangnya!



Kubus



Balok



Bola

