

Lembar Kerja Peserta Didik

LKPD

MATEMATIKA

Nama: _____

Kelas: _____



Nama: _____

Tanggal: _____

Pengurangan dengan Cerita Sederhana



Arahan!

Bacalah soal cerita berikut ini dengan teliti. Berilah tanda silang pada jawaban yang benar!

1. Yudha berencana menjual 8 lukisan hasil karyanya. Lalu seorang seniman membeli 6 lukisan karya Yudha. Berapa sisa lukisan Yudha?

A. 6 lukisan

B. 2 lukisan

C. 8 lukisan

2. Nisa mengerjakan 5 tugas sekolah. Saat ini 4 tugas telah selesai dikerjakan Nisa. Berapa tugas sekolah Nisa yang masih belum selesai?

A. 4 tugas

B. 6 tugas

C. 1 tugas

3. Pada awalnya Tio memiliki 10 kelereng. Lalu 6 kelereng hilang. Berapa sisa kelereng yang dimiliki Tio sekarang?

A. 7 kelereng

B. 8 kelereng

C. 4 kelereng

Nama :

Kelas :

LATIHAN SOAL ISIAN

Ayo, kerjakan latihan soal berikut dengan jawaban yang tepat!

1. Ibu membeli 6 kantong plastik jeruk. Setiap kantong plastik berisi 7 buah jeruk. Berapa jumlah keseluruhan jeruk yang dibeli Ibu?

Jawab :

2. Satu kotak berisi 12 pensil. Jika Olivia membeli 5 kotak, berapa jumlah keseluruhan pensil yang Olivia miliki?

Jawab :

3. Jumlah murid di kelas 4 adalah 45 orang. Hari ini yang hadir hanya 40 orang. Berapa murid yang tidak hadir?

Jawab :

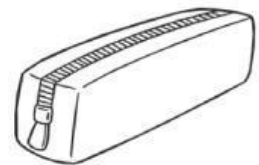
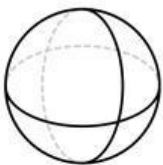
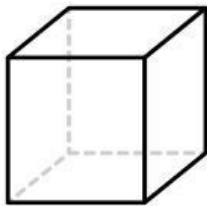
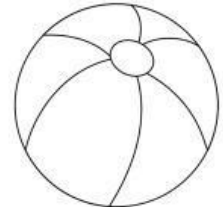
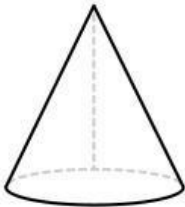
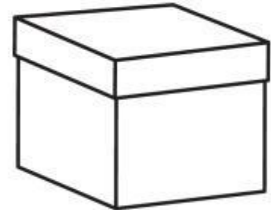
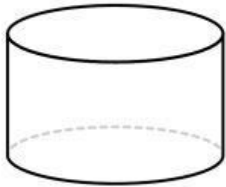
Nama :

Kelas :



Menjodohkan Bangun Ruang

Hubungkan bangun ruang dengan benda yang serupa bentuknya !



Nama : _____

Kelas : _____



BANGUN DATAR

Gunting dan kelompokkanlah bangun datar di bawah ini!

