

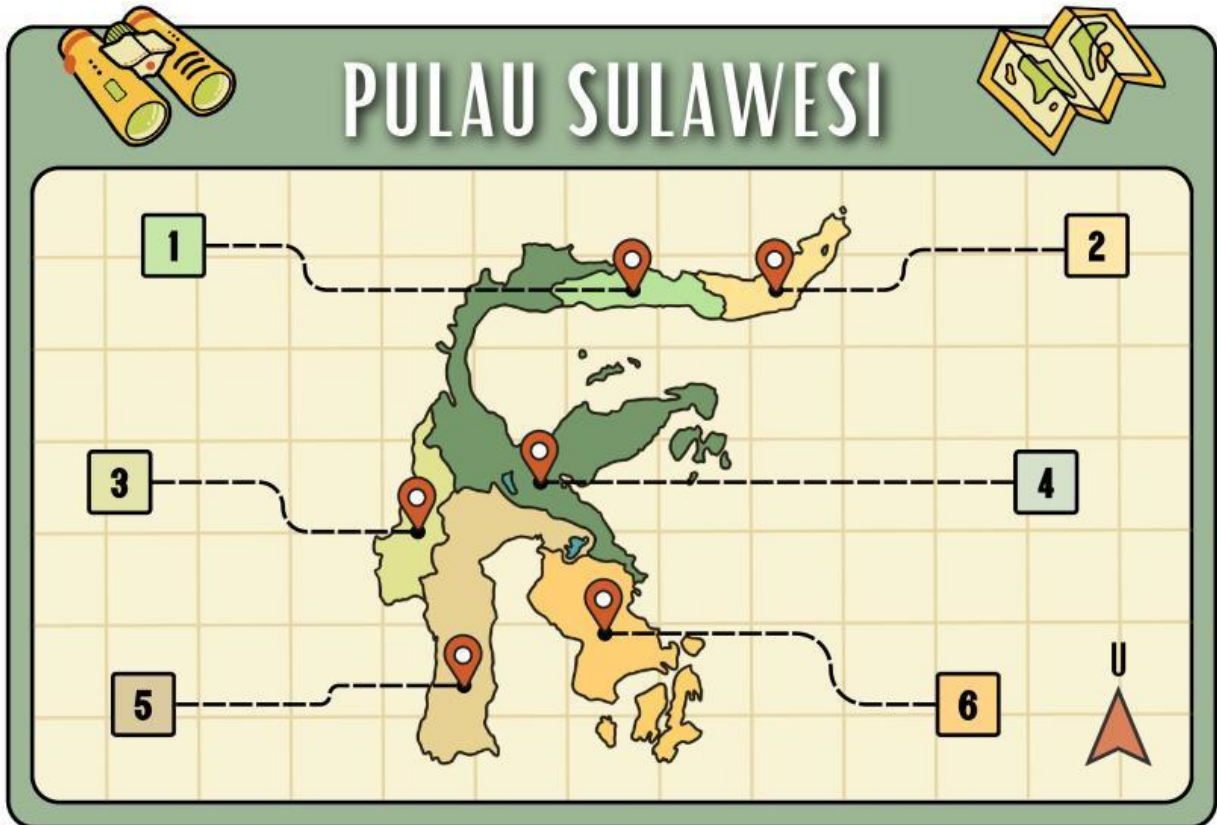
# LKPD

## ILMU PENGETAHUAN SOSIAL

Nama: \_\_\_\_\_ Kelas: \_\_\_\_\_



# PROVINSI & IBU KOTA



Tuliskan nama provinsi beserta ibu kotanya sesuai dengan nomor yang tertera pada peta di atas dalam kolom yang disediakan!

**1**  
Nama Provinsi: \_\_\_\_\_  
Ibu Kota: \_\_\_\_\_

**2**  
Nama Provinsi: \_\_\_\_\_  
Ibu Kota: \_\_\_\_\_


**3**  
Nama Provinsi: \_\_\_\_\_  
Ibu Kota: \_\_\_\_\_

**4**  
Nama Provinsi: \_\_\_\_\_  
Ibu Kota: \_\_\_\_\_

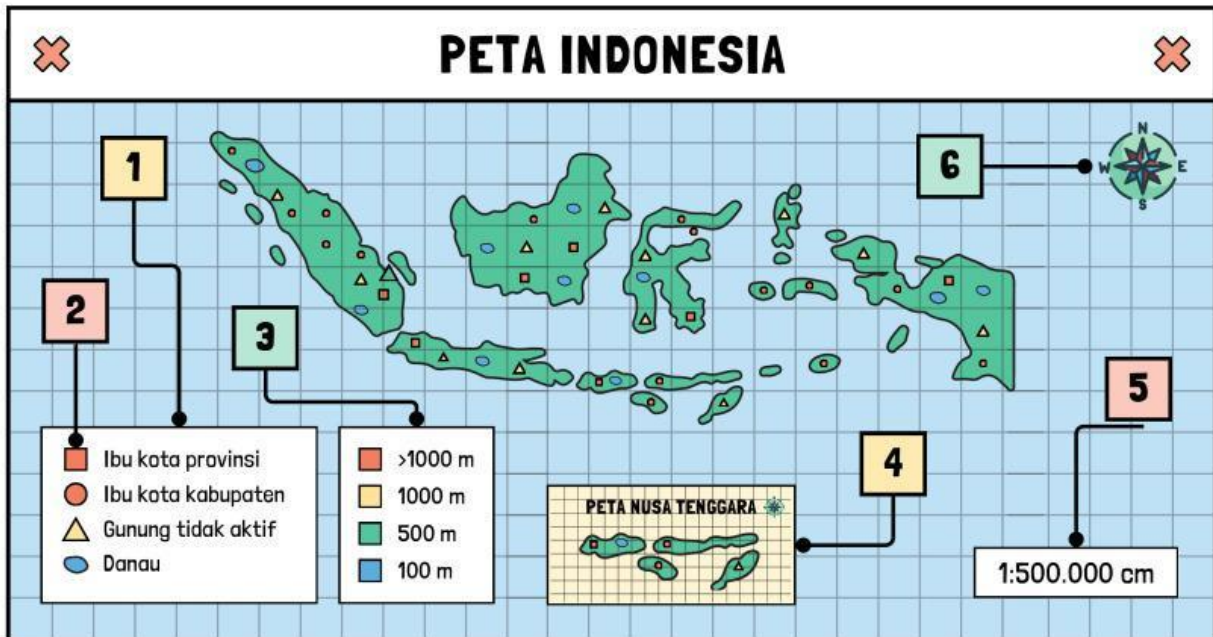
**5**  
Nama Provinsi: \_\_\_\_\_  
Ibu Kota: \_\_\_\_\_

**6**  
Nama Provinsi: \_\_\_\_\_  
Ibu Kota: \_\_\_\_\_

# MENGENAL PETA



Identifikasi dan jelaskan informasi umum dalam peta berikut!



**1.**

---

---

---

**4.**

---

---

---

**2.**

---

---

---

**5.**

---

---

---

**3.**

---

---

---

**6.**

---

---

---

# Pilihan Ganda



## Petunjuk

Berilah tanda silang pada huruf a, b, c, atau d, yang menurut kamu jawaban yang paling benar!

1. Skala adalah:
  - A. gambar
  - B. perbandingan jarak
  - C. alat ukur
  - D. peta
2. Skala 1 : 100.000 berarti:
  - A. 1 cm = 100.000 cm
  - B. 1 km = 100 cm
  - C. 1 cm = 100 cm
  - D. 1 cm = 1 km
3. Peta adalah:
  - A. alat tulis
  - B. gambar bumi
  - C. gambar permukaan bumi
  - D. buku
4. Jarak peta 2 cm, skala 1 : 100.000. Jarak sebenarnya adalah:
  - A. 1 km
  - B. 2 km
  - C. 3 km
  - D. 4 km
5. Peta digunakan untuk:
  - A. bermain
  - B. makan
  - C. mengetahui lokasi
  - D. tidur

# GEOGRAFI

## PETA DAN SKALA



1

Jika skala peta 1 : 100.000 dan jarak pada peta 5 cm, maka jarak sebenarnya adalah ... km.

.....

2

Sebutkan tiga unsur penting dalam peta!

.....

3

Apa yang dimaksud dengan skala peta?

.....

4

Peta yang menunjukkan penyebaran penduduk disebut peta?

.....

5

Apa perbedaan antara peta topografi dan peta tematik?

.....



# PERBANDINGAN DAN SKALA

Kerjakanlah latihan soal di bawah ini dengan benar!

Perbandingan berat buah apel dan jeruk adalah 7 : 5. Jika berat jeruk 15 kg, maka berapa kg berat buah apel tersebut?

Seorang arsitek ingin membuat denah rumah dengan skala 1 : 100. Panjang ruang tamu pada denah adalah 7 cm. Hitunglah panjang ruang tamu sebenarnya dalam satuan meter!

Pasangkanlah soal berikut ini dengan jawaban yang benar!

Skala peta 1 : 50.000,  
jarak pada peta 5 cm

1 : 2

Perbandingan antara  
18 dan 24

1 : 500.000

Jarak sebenarnya 30  
km, jarak peta 6 cm


1 : 3

Perbandingan antara  
9 : 27

25 km

Perbandingan tali A  
15 m, tali B 30 m

3 : 4

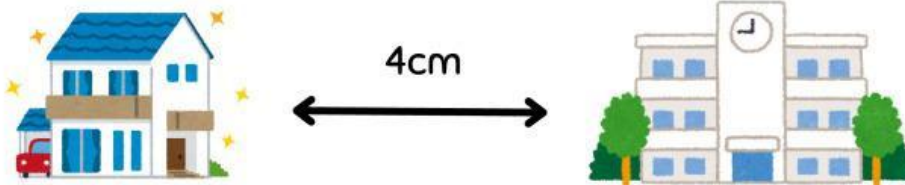


# MENYELESAIKAN MASALAH SKALA



Gunakan konsep skala untuk menjawab soal cerita!

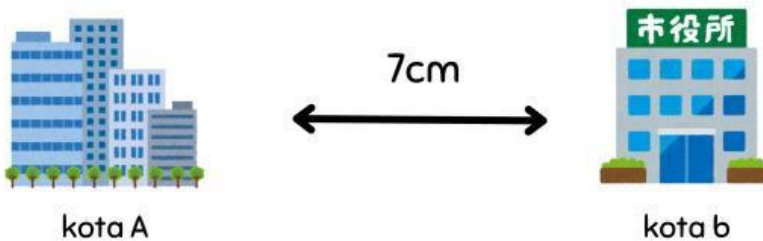
1



Jarak rumah ke sekolah di peta adalah 4 cm. Jika skala 1 : 2.000, jarak sebenarnya adalah \_\_\_ m.

---

2



Jarak kota A ke B di peta 7 cm. Jika skala 1 : 1.000.000, jarak sebenarnya adalah \_\_\_ km.

---

3



Panjang meja di peta 5 cm, skala 1 : 50 → panjang sebenarnya \_\_\_ cm.

---