


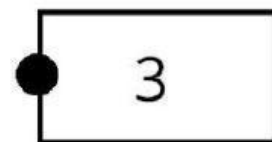
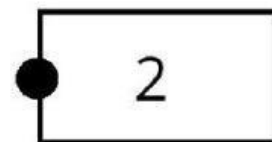


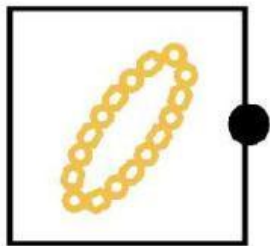


Nama : \_\_\_\_\_

Kelas : \_\_\_\_\_

# MENGENAL SIMBOL PANCASILA

Hubungkan dengan garis simbol pancasila berikut dengan sila-silanya!



Nama :

Kelas :

## LKPD PANCASILA

Tuliskanlah nama simbol dan bunyinya sesuai lambang negara Garuda Pancasila !



Nama simbol : .....

Bunyi : .....



Nama simbol : .....

Bunyi : .....



Nama simbol : .....

Bunyi : .....



Nama simbol : .....

Bunyi : .....



Nama simbol : .....

Bunyi : .....

Nama: \_\_\_\_\_

Kelas: \_\_\_\_\_

# Sila-Sila Pancasila

Bacalah pernyataan dalam setiap kolom. Berilah tanda centang pada kolom benar jika pernyataannya benar dan tanda centang pada kolom salah jika pernyataannya salah!

No	Pernyataan	Benar	Salah
1	Kepala banteng adalah simbol sila kelima Pancasila.		✓
2	Sila pertama Pancasila adalah Ketuhanan Yang Maha Esa.		
3	Simbol sila pertama Pancasila adalah bintang.		
4	Sila kelima Pancasila yaitu keadilan sosial bagi seluruh rakyat Indonesia.		
5	Mia berkata pada ibu guru bahwa sila kedua Pancasila adalah kemanusiaan yang adil dan beradab.		
6	Pak guru meminta Doni menunjuk simbol sila ketiga Pancasila. Doni menunjuk gambar pohon beringin.		
7	Rantai adalah simbol sila kedua Pancasila.		
8	Mia mengatakan pada Doni bahwa bunyi sila keempat adalah keadilan sosial bagi seluruh rakyat Indonesia.		



Nama:

Kelas:

# LKPD Pancasila

Tuliskan sila pancasila yang tepat sesuai dengan simbolnya.



*Ketuhanan yang maha esa*

.....



.....



.....



.....



.....

Nama: \_\_\_\_\_

Kelas: \_\_\_\_\_

# SIMBOL PANCASILA

Perhatikan gambar-gambar berikut, lalu pilih simbol yang sesuai dengan sila yang dimaksud!

Lambang manakah yang merupakan sila pertama?

a.



b.



Lambang manakah yang merupakan sila kedua?

a.



b.



Lambang manakah yang merupakan sila ketiga?

a.



b.



Lambang manakah yang merupakan sila keempat?

a.



b.



Lambang manakah yang merupakan sila kelima?

a.



b.



Lambang manakah yang merupakan sila pertama dan ketiga?

a.



b.

