

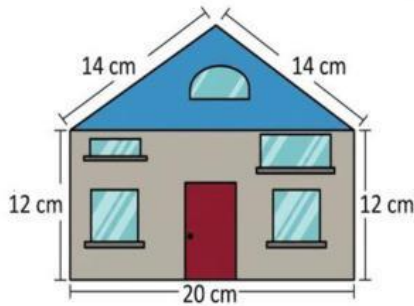


Colegio La Casita Encantada
PRUEBA ESCRITA DE MEDICIÓN
GRADO SEGUNDO – II PERIODO 2026

NOMBRE _____ FECHA: _____

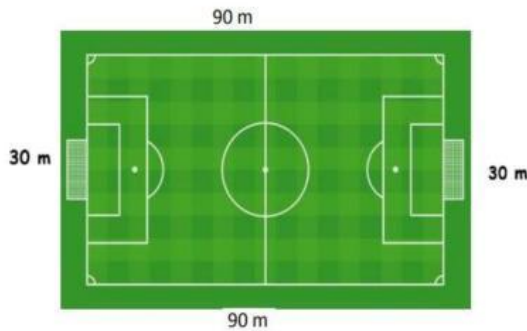
Lee con atención los problemas y responde

1. Diana compró una casa de muñecas, de la que solo vio una foto de frente. ¿Cuál es el perímetro de la vista frontal de la casa de muñecas? Recuerda realizar la operación



- a. 46 cm
- b. 72 cm
- c. 72 m
- d. 240 cm

2. El entrenador de fútbol pone a correr a sus jugadores alrededor del campo. Teniendo en cuenta las medidas de la cancha ¿Cuántos metros recorre un jugador? Realiza la operación.



- a. 240 m
- b. 180m
- c. 60 m
- d. 240 cm

3. ¿Qué es el perímetro?

- a. Es la medida del espacio que queda por dentro de una figura geométrica.
- b. Es el resultado de sumar las medidas de todos los lados que rodean a una figura.
- c. Es el número de esquinas o puntos donde se cruzan las líneas de una figura.
- d. Es el tamaño que tiene una figura cuando la pintamos por dentro.

Observa el plano de la casa con atención, cada cuadrado mide 1 m. Responde las preguntas 3 al 11 según correspondan.

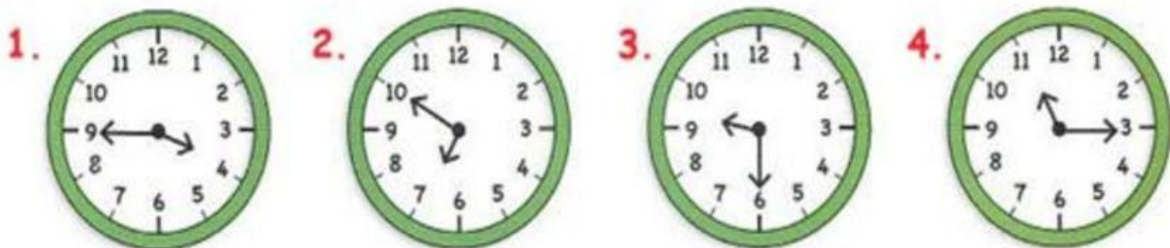


4. ¿Cuál es el área del Dormitorio 1?

- a. 12 m²
- b. 16 m²
- c. 20 m²
- d. 24 m²

5. **¿Cuál es el perímetro del Dormitorio 2?** Recuerda que cada lado del cuadrado mide 1 m.
- a. 15 m b. 18 m c. 20 m d. 22 m
6. **¿Qué parte de la casa tiene un área de 11 m²?**
- a. El patio b. El baño c. La cocina d. Dormitorio 1
7. **¿Cuál es el área total del Baño y la Sala-Comedor?**
- a. 20 m² b. 24 m² c. 28 m² d. 37 m²
8. **¿Qué espacio tiene el menor perímetro?**
- a. Baño b. Cocina c. Dormitorio 2 d. Patio
9. **¿Qué parte de la casa tiene mayor área?**
- a. Dormitorio 1 b. Cocina c. Sala-Comedor d. Patio
10. **El área total de la casa es:**
- a. 15 metros cuadrados. c. 40 metros cuadrados.
b. 84 metros cuadrados. d. 20 metros cuadrados.

Observa los siguientes relojes y responde las preguntas 12, 13, 14 y 15.



11. **¿Qué reloj marca las 4:45?**
- a. Reloj 1 b. Reloj 2 c. Reloj 3 d. Reloj 4
12. **El reloj 3, ¿qué hora está marcando?**
- a. 9:00 b. 9:30 c. 6:45 d. 8:30
13. **Lee las afirmaciones y marca la respuesta correcta.**
- a. El reloj 4 marca las 11:15
b. El reloj 2 marca las 6: 50
c. El reloj 1 marca las 9: 20
d. El reloj 3 marca las 6: 45

Lee la hora y dibuja correctamente las manecillas en el reloj.

14. **Las doce y veinte.**

