

POST TEST

MATEMATIKA

Materi : Lingkaran



NAMA :

KELAS :

POST TEST

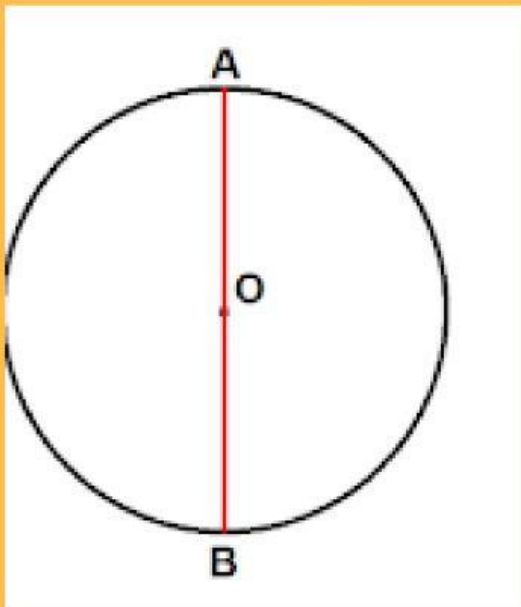
Materi : Lingkaran

KERJAKAN SOAL BERIKUT

1. Jika suatu garis hanya memiliki satu titik potong dengan lingkaran, maka garis tersebut disebut

- A. Garis Potong
- B. Garis Sejajar
- C. Garis Singgung
- D. Garis Berimpit

2. Perhatikan gambar berikut.

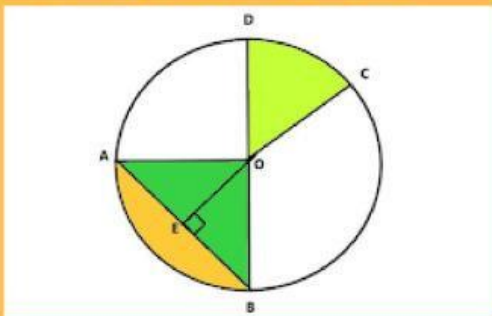


besar sudut AOB adalah

- A. 360°
- B. 200°
- C. 90°
- D. 180°

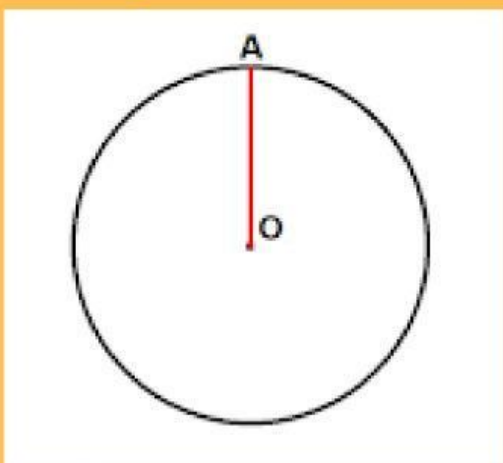
3. Jika jari-jari lingkaran ditarik ke titik singgung, maka hubungan jari-jari dan *20 poin garis singgung adalah
- A. tegak lurus
 - B. sejajar
 - C. Membentuk sudut lancip
 - D. Berimpit

4. Perhatikan gambar berikut



Bagian yang diarsir warna kuning disebut

- A. Busur
 - B. Tali busur
 - C. Juring
 - D. Tembereng
5. Perhatikan gambar berikut



Panjang OA adalah

- A. Busur
- B. Tali busur
- C. Juring
- D. Tembereng