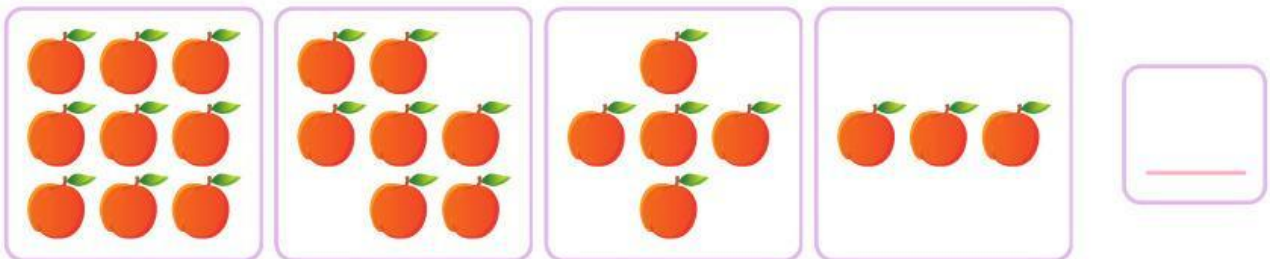


NAMA :

KELAS :

Pola Gambar

Tentukan banyak benda berikutnya yang sesuai dengan pola gambar yang diberikan dengan tepat dan benar!



NAMA :

KELAS :

Pola Bilangan

Amatilah pola gambar di bawah ini kemudian jawab pertanyaan dengan tepat!


1



Berapa selisih banyak ayam antar kumpulan? _____

Berapa banyak ayam pada kumpulan ke-10? _____

2



Berapa selisih banyak katak antar kumpulan? _____

Berapa banyak katak pada kumpulan ke-7? _____

3



Berapa selisih banyak jerapah antar kumpulan? _____

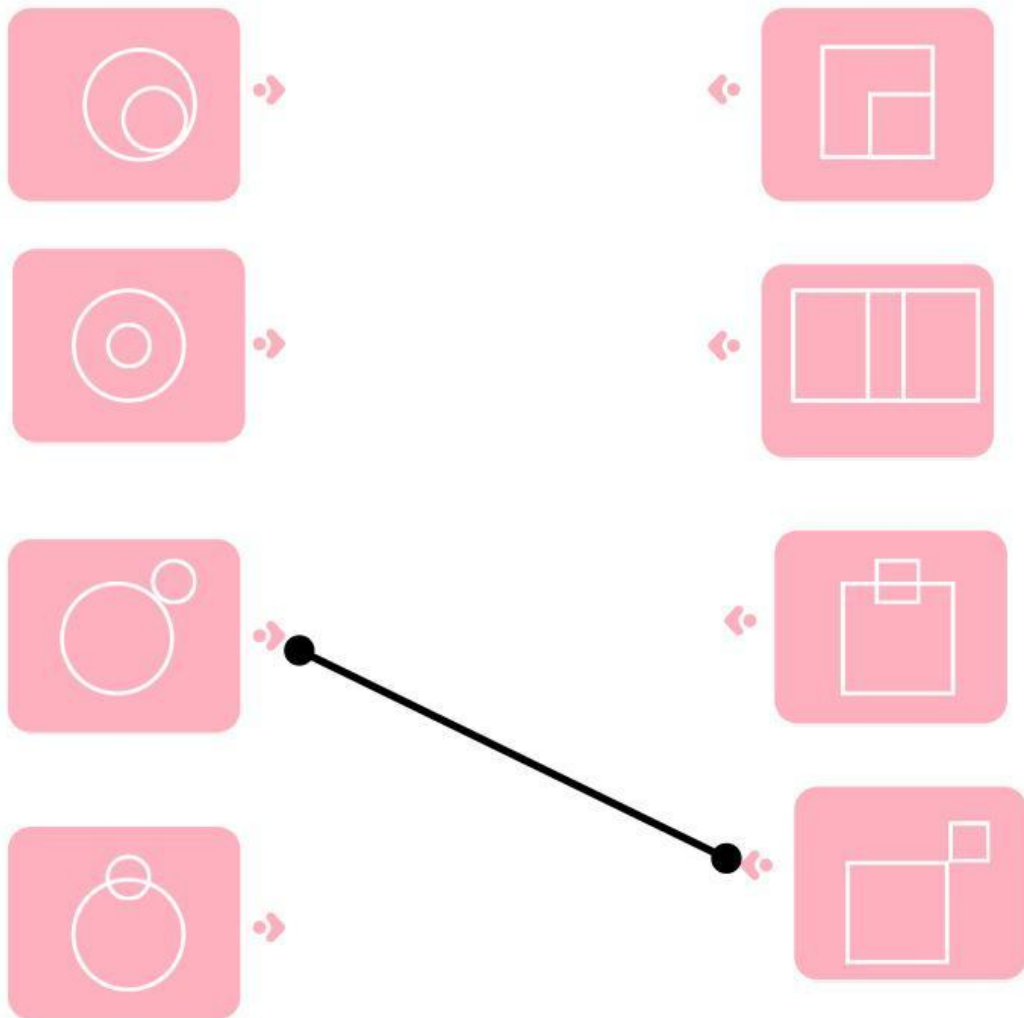
Berapa banyak jerapah pada kumpulan ke-8? _____

NAMA :

KELAS :

Pola Gambar

Pasangkanlah bentuk bangun datar yang memiliki pola gambar yang sama dengan tepat!



nama

kelas



Temukan Pola Bilangan yang Salah

Perhatikan pola bilangannya, tentukan mana yang salah dan tuliskan jawaban benar nya!

1

2 4 6 9 =

2

20 15 10 1 =

3

10 20 30 35 =

4

1 3 5 6 =

5

3 6 8 12 =

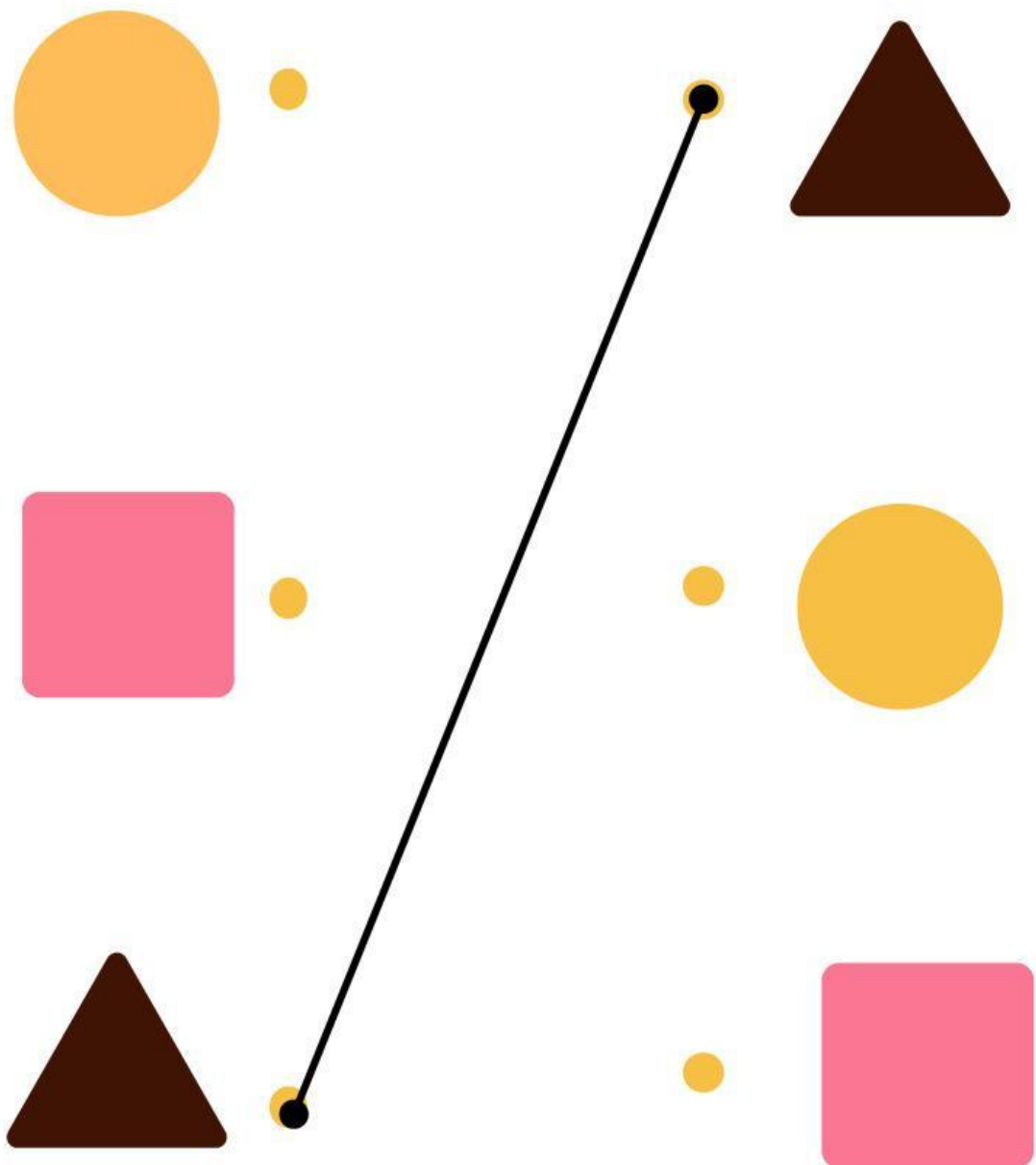


Nama :

Kelas :

Pola Bentuk dan Warna

Pasangkan dua gambar yang sama bentuk dan warnanya!



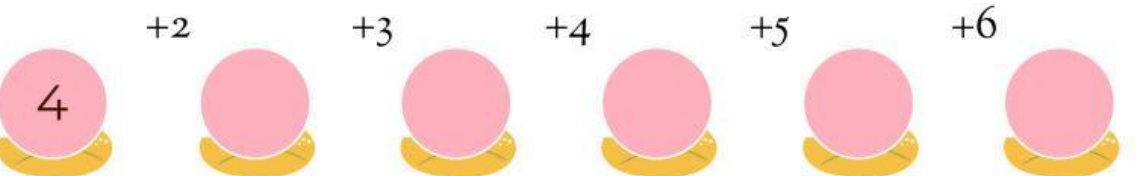
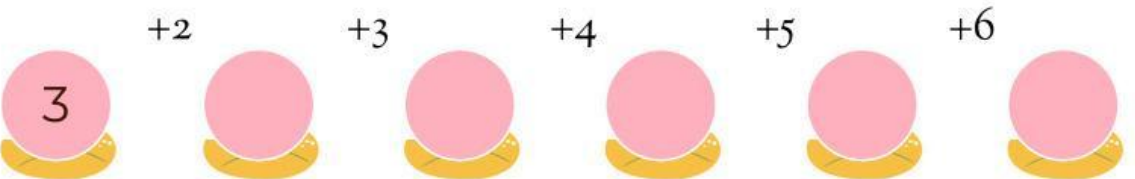
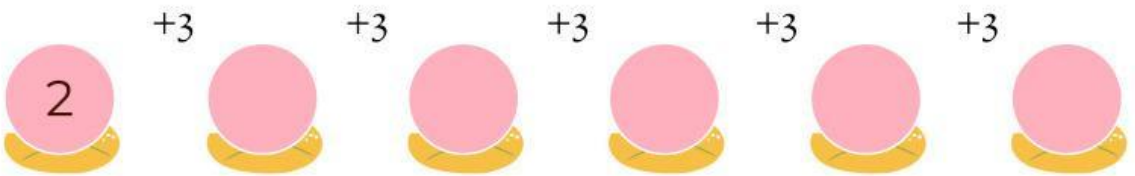
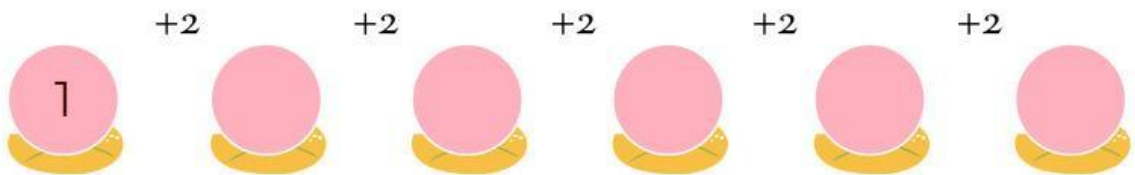
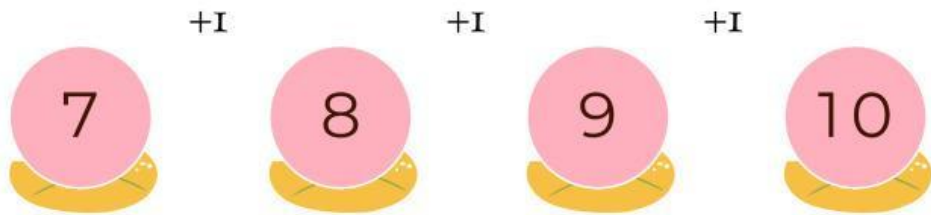
Belajar Pola Bilangan

NAMA:

KELAS:

Lihatlah seekor katak yang sedang melompat di atas garis bilangan. Katak ini melompat dengan pola tertentu. Ayo bantu katak melengkapi angkanya!

CONTOH:



NAMA :

KELAS :

SOAL INTERAKTIF - POLA GAMBAR & POLA BILANGAN

Berilah tanda centang pada jawaban yang benar

1

Pola bilangan: 100, 90, 80, 70, ,

60, 50

65, 55

75, 65

2

Perhatikan pola gambar:



Bentuk selanjutnya adalah



3

Pola bilangan: 2, 4, 8, 16, ,

24, 32

20, 40

32, 64

4

Pola bilangan: 10, 20, 40, 80, ,

90, 100

160, 320

100, 200

NAMA :

KELAS :

SOAL INTERAKTIF - POLA GAMBAR & POLA BILANGAN

Berilah tanda centang pada jawaban yang benar

- 1 Pola bilangan: 2, 4, 6, 8, ,
- 9,10 12,14
- 10,12

- 2 Pola bilangan: 5, 10, 15, 20, ,
- 25,30 22,27
- 24,28

- 3 Perhatikan pola gambar :
- 
-  
- 

Bunga selanjutnya adalah

- 4 Perhatikan pola:
- 
-  
- 

Warna berikutnya adalah

- 5 Pola bilangan ganjil: 1, 3, 5, 7, ,
- 9,11 10,12
- 8,10

Nama :

Kelas :

Menentukan Pola Bilangan

Tentukan bilangan berikutnya dan kotak kosong dari pola bilangan yang diberikan dengan benar dan tepat!

3

7

11

30

31

27

23

1

7

25

31

49

50

45

35

25

15

7

10

13

25

28

31

9

13

17

21

77

70

63

2

4

16

18