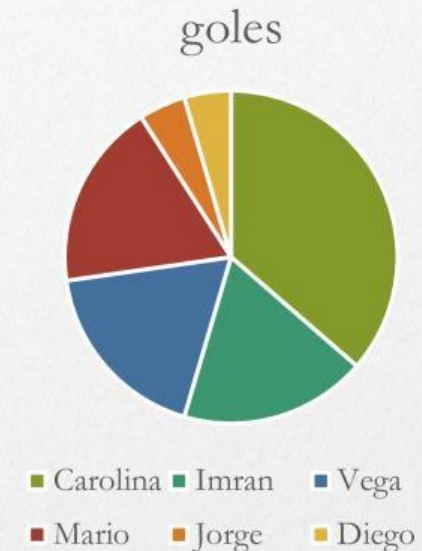




1 En la liga de los recreos se han marcado 21 goles este mes. Carolina es la máxima goleadora con 9 goles, Imran y Mario han marcado 4 cada uno, Vega ha marcado 2 y Diego y Jorge el resto. Rellena la table con la frecuencia, la moda y piensa si el gráfico de sectores es correcto

Goleadores	Frecuencia	La \bar{X} (media) es:
Carolina		La Mo (moda) es:
Imran		
Vega		La Me (mediana) es:
Mario		
Jorge		El R (rango es):
Diego		



2 Calcula la media, la moda y el rango de las notas de Luis

T1	T2	T3	T4	T5	T6	T7	T8
9	8	8	7	6	9	9	7

MODA

MEDIA

RANGO

3 Elige la opción correcta

- ✓ Es que me salga un número entre 2 y 12.
- ✓ Es que me salga un número mayor que 12.
- ✓ Es que me salga el 3.



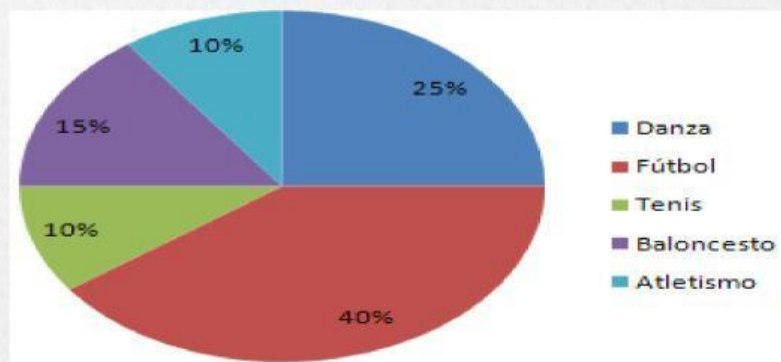
4 Observa la ruleta y rellena la tabla de probabilidad. Redondea los decimales a la centésima.



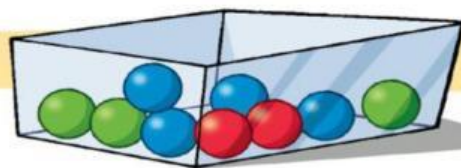
	Casos favorables	Casos posibles	Probabilidad	%
Verde				
Azul				
Naranja				
Amarillo				

5 Observa la gráfica de sectores y contesta.

- ✓ El deporte más practicado →
- ✓ El 2º deporte más practicado →
- ✓ Hay dos deportes igual de practicados →



6 Contesta a las preguntas de cada caso de probabilidad:



Es sacar una bola verde

Es sacar una bola amarilla

Es sacar una bola roja que una verde.

La probabilidad de sacar una bola roja es del %.

La probabilidad de sacar una bola azul es del %.