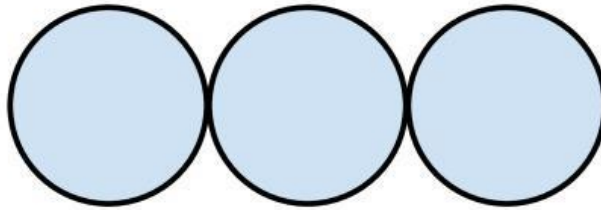


ใบงานที่ 3 เรื่อง ผักคืด พืชคืดปัญหา

คำชี้แจง

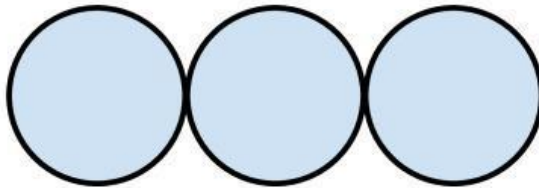
1. ในงานทำบุญแห่งหนึ่ง เจ้าของงาน ให้นักเรียนช่วยวางผลไม้ 3 ชนิด
ให้คนในงานหยิบรับประทานได้บนโต๊ะที่จัดเตรียมไว้ให้ โดยเจ้าของงาน บอกข้อมูลให้นักเรียนวางผลไม้ ดังนี้
แอปเปิลวางอยู่ทางด้านซ้ายของสตรอว์เบอร์รี่ และเชอร์รี่วางอยู่ทางด้านขวาของแอปเปิล
นักเรียนสามารถสรุปได้หรือไม่ว่าต้องวางผลไม้แต่ละชนิดในตำแหน่งใด



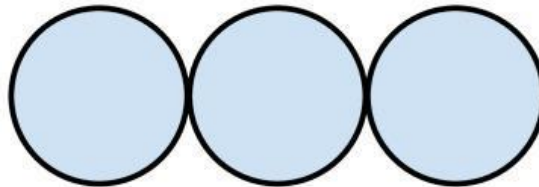
ผลไม้ชนิดที่ 1 ผลไม้ชนิดที่ 2 ผลไม้ชนิดที่ 3



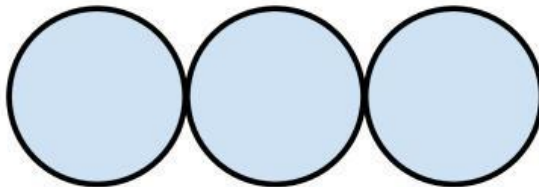
ข้อมูลที่ 1 :



ข้อมูลที่ 2 :



สรุปตำแหน่งของผลไม้จากข้อมูล



ให้นักเรียนตรวจสอบความถูกต้องโดยทำเครื่องหมาย ✓ ลงในตารางการแจกแจงทางเลือกที่ตรงกับข้อมูลที่มี และทำเครื่องหมาย ✗ ลงในตารางแจกแจงทางเลือกที่ไม่ตรงกับข้อมูลที่มี

แบบที่	ตำแหน่งการวางผลไม้	ข้อมูลที่ 1	ข้อมูลที่ 2
1			
2			
3			
4			
5			
6			

ข้อสรุปของการวางตำแหน่งผลไม้

.....

.....

.....

.....

.....

.....

2. มีเด็ก 4 คน แต่ละคนชอบกินลูกอมรสต่าง ๆ มากกว่า 1 ชนิด **อยากทราบว่าใครชอบกินลูกอมรสใดบ้าง** โดยทราบข้อมูลดังนี้

ข้อมูลที่ 1 : เด็กหญิงแป้ง ซื้อลูกอม 2 ชนิดที่แตกต่างกันอย่างละ 1 ชิ้น รวมเป็นเงิน 4 บาท

ข้อมูลที่ 2 : เด็กชายปิง ซื้อลูกอม 2 ชนิดที่แตกต่างกันอย่างละ 1 ชิ้น รวมเป็นเงิน 5 บาท

ข้อมูลที่ 3 : เด็กหญิงมะลิ ซื้อลูกอม 3 ชนิดที่แตกต่างกันอย่างละ 1 ชิ้น รวมเป็นเงิน 7 บาท

ข้อมูลที่ 4 : เด็กชายอ้น ซื้อลูกอม 3 ชนิดที่แตกต่างกันอย่างละ 1 ชิ้น รวมเป็นเงิน 10 บาท



ลูกอมรสบัว

ราคา 2 บาท



ลูกอมรสส้ม

ราคา 2 บาท



ลูกอมรสนม

ราคา 3 บาท



ลูกอมรสมะนาว

ราคา 5 บาท

ให้นักเรียนทำเครื่องหมาย ลงในช่อง ที่สรุปได้ว่าใครชอบลูกอมชนิดใด และทำเครื่องหมาย ลงในช่องของลูกอมที่มีโอกาสเป็นไปได้ แต่สรุปชัดเจนไม่ได้ว่าชอบลูกอมชนิดใด

ลูกอม	ลูกอมรสบัว	ลูกอมรสส้ม	ลูกอมรสนม	ลูกอมรสมะนาว
ชื่อคน				
เด็กหญิงแป้ง				
เด็กชายปิง				
เด็กหญิงมะลิ				
เด็กชายอ้น				

ข้อสรุปใครชอบกินลูกอมรสใดบ้าง.....

