

SUMAS REITERADAS

Nombre: _____ Fecha: _____

Curso: _____



Mira el siguiente ejemplo:



$$3 + 3 + 3 = 9$$

$$3 \times 3 = 9$$

☺ Ahora es tu turno cuenta y escribe las cantidades correspondientes:




$$\square + \square + \square + \square = \square$$

$$\square \times \square = \square$$



$$\square + \square + \square = \square$$


$$\square \times \square = \square$$



..... + + =

3 veces 3 =


3 X 3 =



..... + =

2 veces 4 =


2 X 4 =



..... + + + + =

..... veces =

..... X =



..... + + + =

..... veces =

..... X =