



LKPD

(Lembar Kerja Siswa)

PROPRSI TUBUH

SISWA KELAS X

Nama :

.....

Kelas :

.....

A. SOAL PILIHAN GANDA

Soal menggambar mode

1. Berikut arti dari proporsi secara kamus, kecuali.

- a. Porsi
- b. Berbanding
- c. Seimbang
- d. Perbandingan
- e. Tak seimbang

2. Apa tujuan utama menggunakan garis pertolongan (grid) dalam menggambar proporsi tubuh?

- a. Agar gambar cepat selesai
- b. Agar gambar berwarna cerah
- c. Memastikan keseimbangan dan perbandingan tubuh seimbang
- d. Membuat detail wajah

3. Di manakah letak pinggang pada gambar proporsi anak usia 1 tahun?

- a. Garis 1
- b. Garis 2
- c. Garis 3
- d. Garis 4



4. Proporsi tubuh yang digunakan untuk anak usia 4-6 tahun (bottini) adalah...

- a. 1 : 4 kali tinggi kepala
- b. 1 : 5 kali tinggi kepala
- c. 1 : 6 kali tinggi kepala
- d. 1 : 7 kali tinggi kepala

5. Pada proporsi tubuh anak usia 7-9 tahun, tinggi tubuh adalah ... kali tinggi kepala.

- a. 4
- b. 5
- c. 6
- d. 7





6. Letak pinggang pada proporsi tubuh wanita secara desain fashion biasanya berada pada garis nomor...

- a. 2
- b. 3
- c. 4
- d. 5

7. Pada pembuatan proporsi tubuh, letak kepala pada titik angka....

- a. 0-2
- b. 1-1.5
- c. 0-1
- d. 0-2
- e. 1.5-2.5



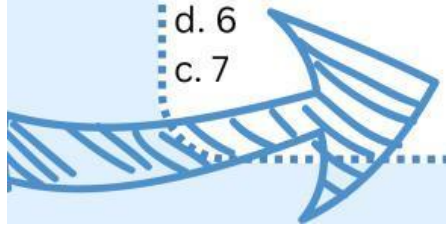
8. Ukuran yang diperlukan untuk menggambar proporsi tubuh secara desain adalah

- a. 7 x tinggi kepala
- b. $7\frac{1}{2}$ x tinggi kepala
- c. 8 x tinggi kepala
- d. $8\frac{1}{2}$ x tinggi kepala
- e. 9 x tinggi kepala

9. Lebar bahu ideal pada proporsi tubuh wanita untuk desain fashion umumnya adalah...

- a. 1x Tinggi Kepala
 - b. $1\frac{1}{4}$ x Tinggi Kepala
 - c. $1\frac{1}{2}$ x Tinggi Kepala
 - d. 2 x Tinggi Kepala
 - e. 3 x tinggi kepala
- 

10. Ukuran tinggi kepala pada perbandingan proporsi tubuh wanita 8% x Tinggi Kepala yaitu cm.

- a. 3
 - b. 4
 - c. 5
 - d. 6
 - e. 7
- 



B. ESSAY

1. Jelaskan pengertian Proporsi Tubuh

2. Jelaskan langkah-langkah ketika ingin menggambar proporsi tubuh manusia

3. Jelaskan mengapa proporsi tubuh penting untuk dipelajari

4. Buatlah satu contoh rangka proporsi tubuh anak kecil usia 5 tahun untuk desain fashion menggunakan pensil! (Kerjakan di buku sketsa)

5. Buatlah satu contoh rangka proporsi tubuh wanita untuk desain fashion dengan perbandingan 1:8 ½ menggunakan pensil! (Kerjakan di buku sketsa)