

# LKPD PENGOLAHAN DAN PENYAJIAN DATA PIKTOGRAM

Nama :

Kelas :

Isilah bagian kosong dengan jawaban yang tepat!

## 🍎 SOAL 1 — Isi Kolom yang Kosong!

🔍 Perhatikan pictogram di bawah! Hitung jumlah gambar dan isi kolom Jumlah yang kosong!





Buah Favorit	Piktogram (🍎 = 1 siswa)	Jumlah
🍎 Apel		<input type="text"/>
🍌 Pisang		8
🍊 Jeruk		<input type="text"/>
🍇 Anggur		3
🍓 Stroberi		<input type="text"/>

🔑 Keterangan: 🍎 = 1 siswa | Contoh: 🍌🍌🍌🍌🍌🍌🍌🍌 → ada 8 gambar → Jumlah = 8

💡 Cara: Hitung satu per satu gambarnya → tulis angkanya di kotak!

## ★ SOAL 2 — Lengkapi Kalimat di Bawah Ini!

🏆 Piktogram Olahraga Favorit Kelas 3 (🏀 = 1 siswa)

Olahraga	Piktogram	Jumlah
🏀 Sepak Bola		9
🏸 Bulutangkis		6
🏊 Renang		4
🏃 Lari		7

1. Olahraga yang paling banyak disukai adalah

Isi dengan kalimat

dengan

Isi dengan angka

siswa.

2. Olahraga yang paling sedikit disukai adalah

Isi dengan kalimat

dengan

Isi dengan angka

siswa.

3. Selisih antara Sepak Bola dan Renang adalah

Isi dengan angka

-

Isi dengan angka

Isi dengan angka  
= ..... siswa.

4. Jumlah seluruh siswa adalah  $9 + 6 + 4 + 7 =$

Isi dengan angka

siswa.

💡 Ingat: Selisih = angka besar - angka kecil | Jumlah = tambahkan semua!