

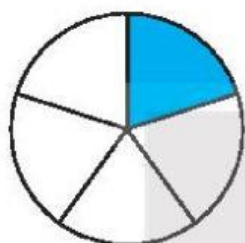
BÀI 14

MỘT PHẦN MẤY

Tiết 1

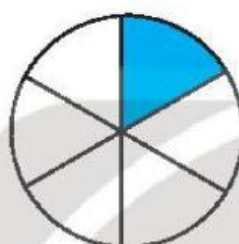
1 Đ, S ?

a)



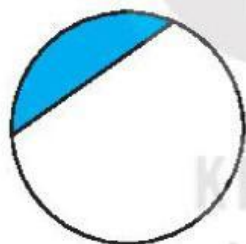
Đã tô màu $\frac{1}{5}$ hình tròn.

b)



Đã tô màu $\frac{1}{6}$ hình tròn.

c)



Đã tô màu $\frac{1}{2}$ hình tròn.

d)



Đã tô màu $\frac{1}{3}$ hình tròn.

2 Nói (theo mẫu).

Một phần hai

Một phần năm

Một phần ba

$\frac{1}{5}$

$\frac{1}{2}$

$\frac{1}{6}$

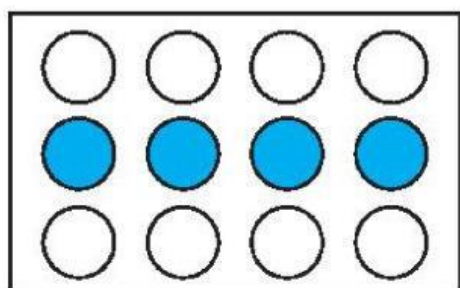
$\frac{1}{3}$

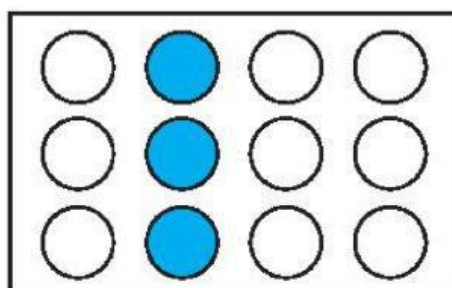
$\frac{1}{4}$

Một phần sáu

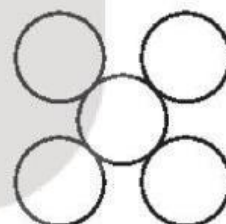

Một phần tư

3 ✎ Viết dấu “x” vào ô trống dưới hình đã tô màu $\frac{1}{3}$ số hình tròn của hình đó.





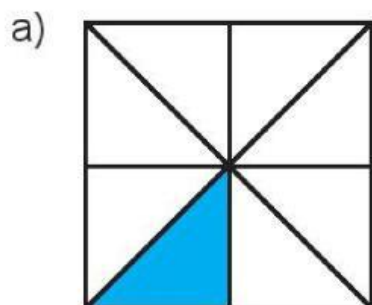
4 ✎ Tô màu $\frac{1}{5}$ mỗi hình sau.



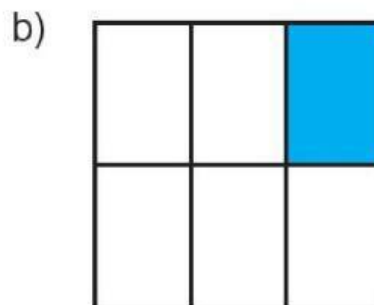
Tiết 2

KẾT NỐI TRI THỨC
VỚI CUỘC SỐNG

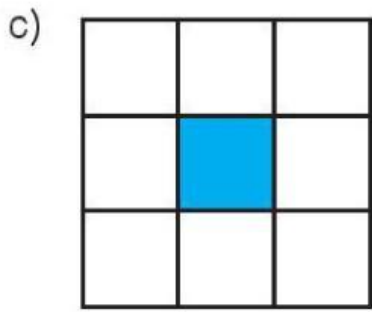
1 ✎ Đ, S ?



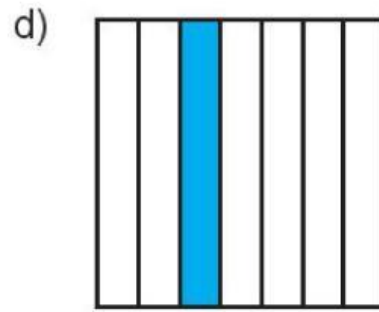
Đã tô màu $\frac{1}{8}$ hình vuông.



Đã tô màu $\frac{1}{5}$ hình vuông.



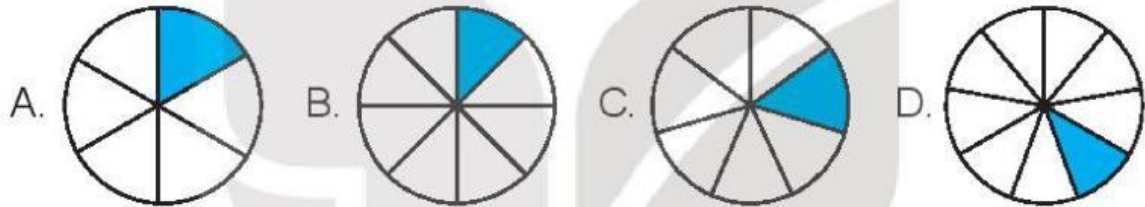
Đã tô màu $\frac{1}{9}$ hình vuông.



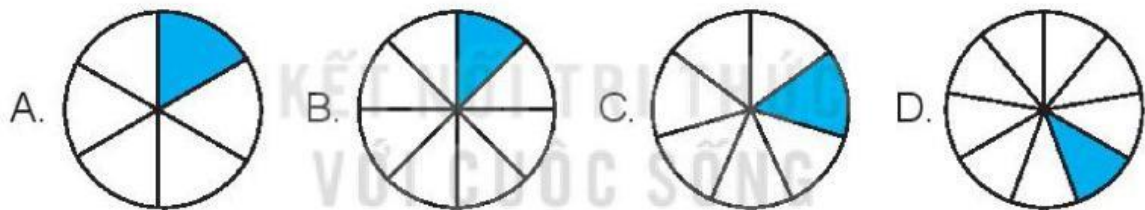
Đã tô màu $\frac{1}{7}$ hình vuông.

2 Khoanh vào chữ đặt trước câu trả lời đúng.

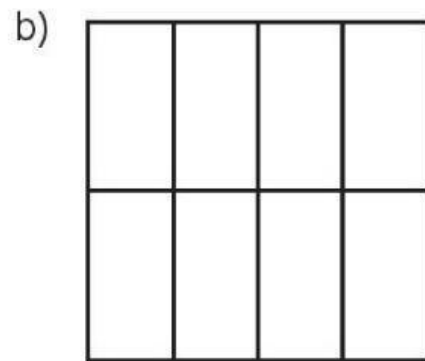
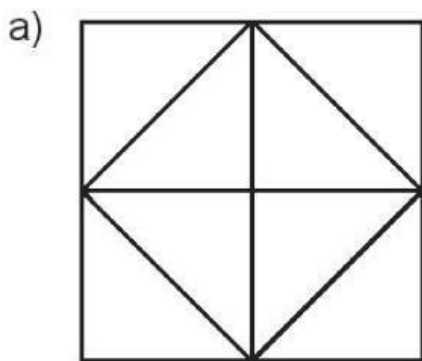
a) Đã tô màu $\frac{1}{7}$ hình nào?



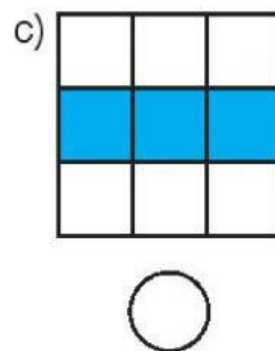
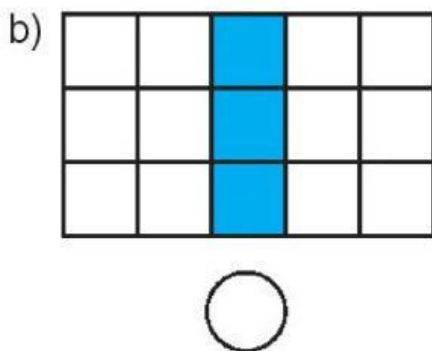
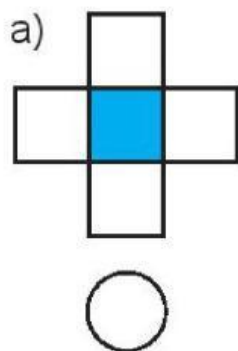
b) Đã tô màu $\frac{1}{9}$ hình nào?




3 Tô màu $\frac{1}{8}$ mỗi hình sau.



4 ✎ Viết dấu “x” vào ô trống dưới hình đã tô màu $\frac{1}{5}$ số ô vuông của hình đó.

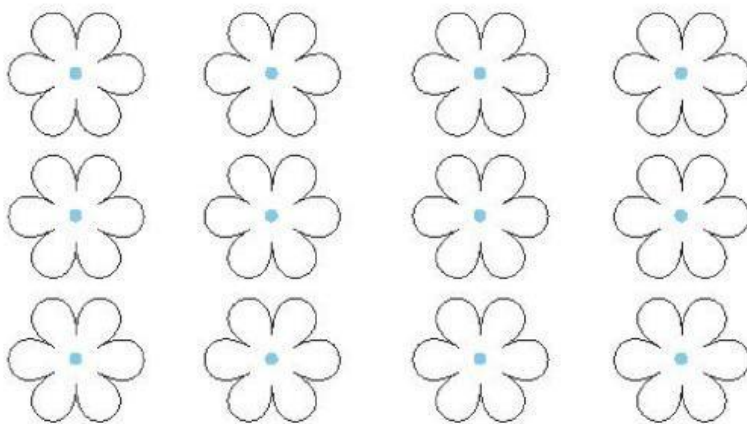


5 ✎ a) Tô màu $\frac{1}{2}$ số con cá rồi viết số thích hợp vào ô trống.



$\frac{1}{2}$ số con cá là con cá.

b) Tô màu $\frac{1}{4}$ số bông hoa rồi viết số thích hợp vào ô trống.



$\frac{1}{4}$ số bông hoa là bông hoa.