

# BÀI 12

## BẢNG NHÂN 9, BẢNG CHIA 9

### Tiết 1

1 ✎ Số ?

Thừa số	9	9	9	9	9	9	9	9
Thừa số	3	5	7	9	4	6	8	10
Tích								

2 ✎ Số ?

Số bị chia	36	54	90	72	81	45	63	27
Số chia	9	9	9	9	9	9	9	9
Thương								

3 ✎ Nói hai phép tính có cùng kết quả (theo mẫu).

$9 \times 2$

$54 : 9$

$28 : 7$

$9 \times 5$

$42 : 7$

$6 \times 3$

$5 \times 9$

$36 : 9$

4 ✎ Cô Lan có 36 bông hoa hồng. Cô Lan cắm hoa vào các lọ, mỗi lọ có 9 bông hoa. Hỏi cô Lan cắm được bao nhiêu lọ hoa như vậy?

Bài giải

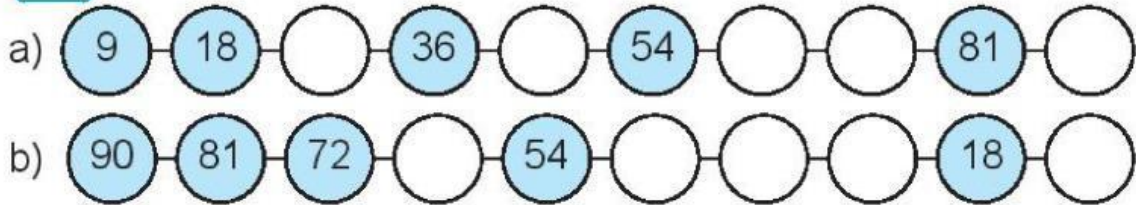
.....

.....

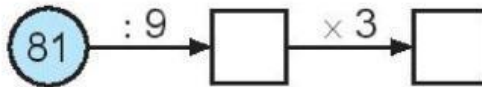
.....

## Tiết 2

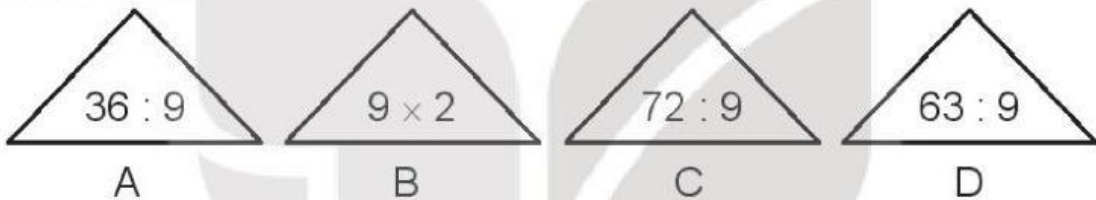
1 Số ?



2 Số ?



3 Khoanh vào chữ đặt dưới hình tam giác ghi phép tính có kết quả lớn hơn 7 và bé hơn 10.



4 Có 27 bạn tập nhảy dây. Cô giáo đã chia đều các bạn thành 9 nhóm. Hỏi:

- a) Mỗi nhóm tập nhảy dây có mấy bạn?  
b) 2 nhóm tập nhảy dây như vậy có bao nhiêu bạn?

*Bài giải*

.....

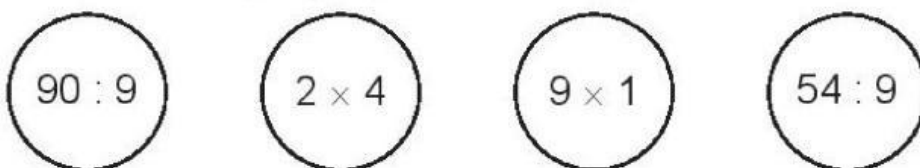
.....

.....

.....

.....

5 Tô màu đỏ vào hình tròn ghi phép tính có kết quả bé nhất, tô màu xanh vào hình tròn ghi phép tính có kết quả lớn nhất.



## Tiết 3

1 ✎ Dựa vào bảng nhân, chia hãy tính:

a)  $9 \times 5 = \dots\dots$    b)  $6 \times 4 = \dots\dots$    c)  $72 : 9 = \dots\dots$    d)  $42 : 6 = \dots\dots$

2 ✎ Số ?

a)

×	9	7	8
	3	4	10

b)

:	45	36	70
	5	6	7

3 ✎ a) Mỗi đội múa rồng có 9 người. Hỏi 3 đội múa rồng như vậy có bao nhiêu người?

b) Nếu tất cả số người múa rồng ở câu a chuyển sang múa lân, mỗi đội 3 người thì được bao nhiêu đội múa lân?

*Bài giải*

.....

.....

.....

.....

.....

4 ✎ Tìm hai số bé hơn 5 và có thương là 2.

*Bài giải*

.....

.....

.....

.....

.....