





LEMBAR KERJA PESERTA DIDIK



KELAS : IV
TEMA : 6
MAPEL : IPA
MATERI : (SIKLUS HIDUP
HEWAN)


NAMA SISWA : _____

KELAS : _____

NO. ABSEN : _____

PERHATIKAN VIDEO BERIKUT !



DENGARKAN REKAMAN MP3 BERIKUT !



**TANGGAPILAH
REKAMAN
TERSEBUT.
TULISKAN
TANGGAPANMU DI
KOLOM YANG
DISEDIAKAN !**



Jawaban Isian :

KOTAK CENTANG

Berilah tanda centang pada pada tahapan yang termasuk siklus hidup Katak.

Telur

Kepompong

Berudu

Nimfa

Katak Berekor

MENJODOHKAN KOTAK DENGAN GARIS

Pasangkan nama hewan dibawah dengan tahapan dalam siklus hidupnya dengan cara menarik garis



Nimfa



Kecebong



Kepompong

DROP DOWN

Gambar disamping merupakan contoh hewan yang mengalami metamorfosis....



PILIHAN GANDA

Berikut ini hewan-hewan yang mengalami metamorfosis tidak sempurna yaitu...

A) Kupu-kupu dan Belalang

B) Capung dan Belalang

C) Nyamuk dan Kecoa

DRAG AND DROP

