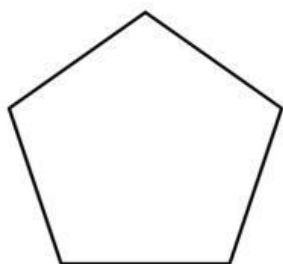


MATEMÁTICAS CONTROL TEMA 8

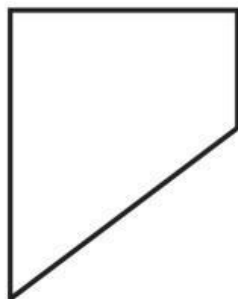
NOMBRECURSO.....NÚMERO

1. Dibuja tú un polígono y señala los tres elementos que hemos estudiado.

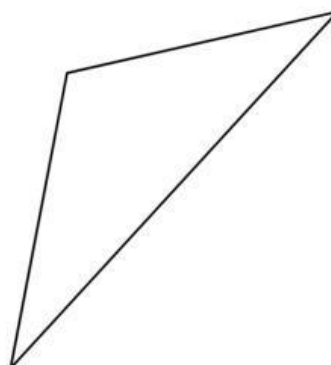
2. Observa estos polígonos, cuenta sus lados y escribe dentro de cada uno su nombre.



.....



.....

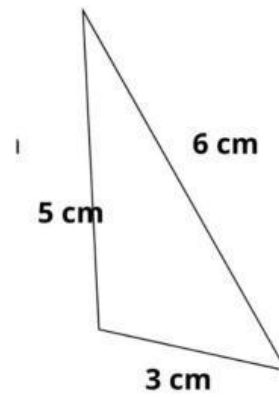
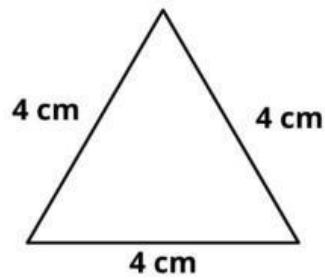
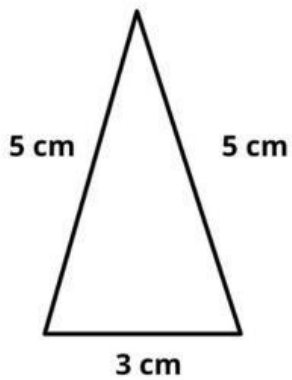


.....

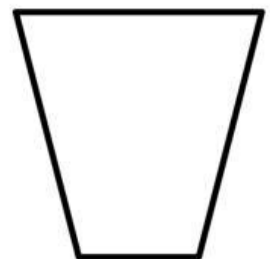
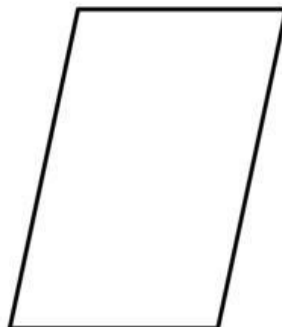
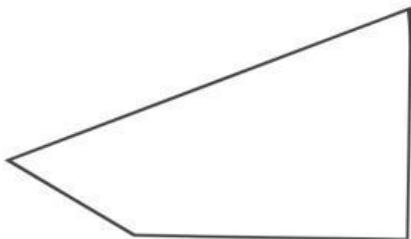
MATEMÁTICAS CONTROL TEMA 8

NOMBRECURSO.....NÚMERO

3. Clasifica los siguientes triángulos según sus lados.



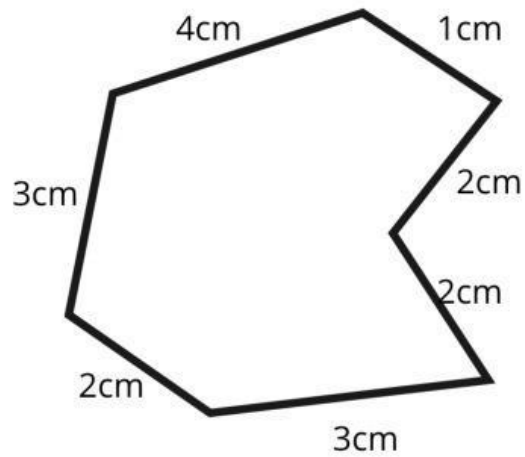
4. Ahora clasifica los cuadriláteros.



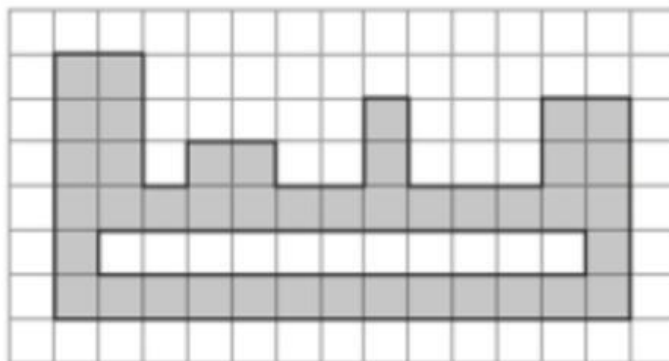
MATEMÁTICAS CONTROL TEMA 8

NOMBRECURSO.....NÚMERO

5. Calcula el perímetro de esta figura.



6. Halla el área de esta figura.

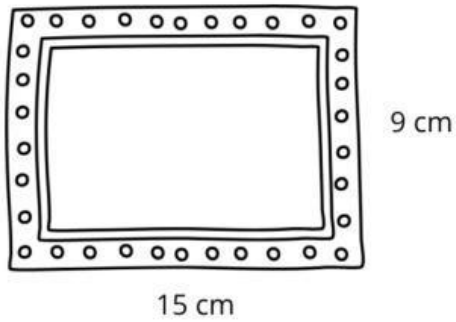


7. Dibuja una circunferencia de 3 centímetros de radio. Señala el centro, traza el radio de rojo, traza también el diámetro de color azul y pinta el círculo de verde suave.

8. Escribe verdadero o falso :

- Los polígonos que tienen 4 lados se llaman cuadrados
- Un polígono puede tener un lado curvo (solo uno)
- El radio de la circunferencia es el doble del diámetro

9. Julián quiere poner un marco de madera a una foto de su familia. Si la foto mide 15 centímetros de ancho y 9 de alto, ¿cuántos centímetros de madera necesita?



10. Realiza estas operaciones.

3.824

9.257

5.482

2.356

- 2.871

x. 6

+ 254

4.592 4