

Universidad Técnica de Machala

Asignatura: Tecnología Educativa

Evaluación de Matemáticas

Curso: Quinto de Básica

Fecha: 03 de junio

1. Completar con una palabra

La suma de $25 + 15$ es _____.

30

15

40

50

2. Opción única

¿Cuál es el resultado de $48 \div 6$?

• a) 6

• b) 7

• c) 8

• d) 9

3. Casilla de verificación

Selecciona las operaciones que tienen como resultado 20:

$10+10$

$25-5$

4×5

$30 \div 2$

$12+9$

4. Casilla de seleccionar

Elige el número romano que corresponde al número 12:

12

- IX
- XI
- XII
- XIII

5. Arrastra cada número a su resultado correcto:

$7 + 3$

$9 - 4$

6×2

$20 \div 5$

4



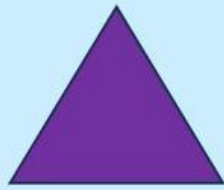
12

5

10

5. Unir con líneas

Relaciona la figura con el número de lados:



6

5

4

3