

**UNIDAD EDUCATIVA  
EVALUACIÓN DE CIENCIAS NATURALES**

**Tema:** El Sistema Solar

**Nombre:** \_\_\_\_\_

**Curso:** \_\_\_\_\_

**1) Observe las imágenes del Sistema Solar y escriba el nombre del planeta que corresponde.**



\_\_\_\_\_



\_\_\_\_\_



\_\_\_\_\_



\_\_\_\_\_



\_\_\_\_\_



\_\_\_\_\_

**2) Lea cuidadosamente y seleccione la casilla correcta ante la afirmación:**

“La Tierra es el tercer planeta del Sistema Solar.”

Verdadero

Falso

3) Marca las opciones correctas.

¿Cuáles de los siguientes pertenecen al Sistema Solar?


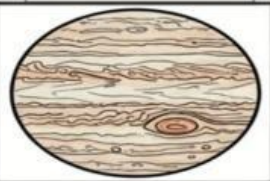
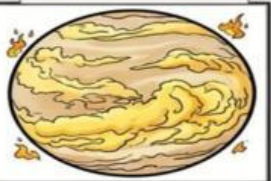


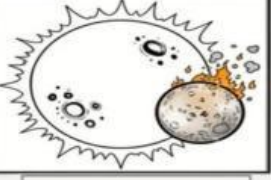
- Marte
- Sol
- Árbol
- Júpiter
- Río

4) Selecciona la opción correcta.

El planeta conocido como el planeta rojo es:

- a) Venus
- b) Marte
- c) Saturno
- d) Mercurio

5) Arrastra según corresponda las características.

El más caluroso	El más grande	Vida
El más frío	Anillos grandes	Tormentas
		
		
	Atlas	

**6) Relaciona según corresponda.**

Elemento

Descripción

Sol

Estrella que ilumina el Sistema Solar

Tierra

Planeta donde vivimos

Saturno

Planeta con anillos visibles

Luna

Satélite natural de la Tierra