

Lembar Kerja Peserta Didik

# LKPD

## Sistem Tata Surya

Nama : \_\_\_\_\_

Kelas : \_\_\_\_\_






Isilah kotak kosong di bawah ini dengan  
nama planet yang benar!







**Guntinglah gambar planet di bawah ini dan susunlah berdasarkan jaraknya terhadap matahari.**



Tuliskan karakteristik planet di bawah ini  
dengan benar!

No.	Nama Planet	Karakteristik
1.	 _____	Warna : Jumlah Satelit : Nama Satelit : Kala Rotasi : Kala Revolusi :
2.	 _____	Warna : Jumlah Satelit : Nama Satelit : Kala Rotasi : Kala Revolusi :
3.	 _____	Warna : Jumlah Satelit : Nama Satelit : Kala Rotasi : Kala Revolusi :
4.	 _____	Warna : Jumlah Satelit : Nama Satelit : Kala Rotasi : Kala Revolusi :

No.	Nama Planet	Karakteristik
5.	 _____	Warna : Jumlah Satelit : Nama Satelit : Kala Rotasi : Kala Revolusi :
6.	 _____	Warna : Jumlah Satelit : Nama Satelit : Kala Rotasi : Kala Revolusi :
7.	 _____	Warna : Jumlah Satelit : Nama Satelit : Kala Rotasi : Kala Revolusi :
8.	 _____	Warna : Jumlah Satelit : Nama Satelit : Kala Rotasi : Kala Revolusi :