


# LKPD


## BANGUN DATAR



Perhatikan video berikut ini:



Perhatikan materi presentasi berikut ini:



Materi



Materi



# LKPD

## BANGUN DATAR

### 1 TEKS FIELD

Bangun datar segi empat yang keempat sisinya sama panjang dan keempat sudutnya siku-siku 90 adalah...

### 2 SINGLE CHOICE

Berikut ini yang bukan bangun datar adalah....

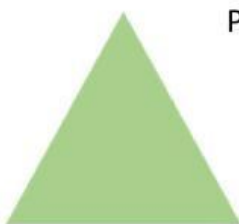
### 3 CHECKBOXES

Pernyataan yang benar adalah....

Persegi memiliki 4 sisi  Lingkaran memiliki 6 sisi  Segitiga memiliki  3 sisi

### 4 SELECT

Nama bangun datar dibawah ini adalah..



Persegi

Segitiga

Persegi Panjang

Lingkaran

# LKPD

## BANGUN DATAR

### WORD SEARCH

Temukan 3 kata pada kotak dibawah ini...

5

S	S	I	S	I
M	U	L	I	N
O	S	D	K	T
D	K	C	U	K
U	G	X	M	T

### SPEAK

Sebutkan nama bangun datar berikut dengan tepat!



# LKPD

## BANGUN DATAR

### LISTENING

dengan



Dengarkan suara berikut dan tuliskan jawabannya tepat !



7

### DRAG AND DROP

Tentukan rumus yang sesuai dengan gambar



<input type="text"/>
<input type="text"/>
<input type="text"/>

8

# LKPD

## BANGUN DATAR

### JOIN

Buatlah garis ke jawaban yang benar

		<input type="checkbox"/>	Persegi panjang
9		<input type="checkbox"/>	Lingkaran
		<input type="checkbox"/>	Segitiga