




LKPD

BANGUN DATAR

Perhatikan video berikut ini :



Perhatikan materi presentasi berikut ini :





LKPD

BANGUN DATAR

1 TEKSFIELD

Bangun datar segi empat yang keempat sisinya sama Panjang dan keempat sudutnya siku-siku atau 90° adalah....

2 SINGELCHOICE

Berikut ini yang bukan merupakan bangun datar adalah....

3 CHECKBOXES

Pernyataan yang benar adalah...

Persegi memiliki 4 sisi

Lingkaran memiliki 6

sisi Segitiga memiliki 3 sisi

4 SELECT

Nama bangun datar dibawah ini adalah...



persegi

segitiga

persegi panjang

lingkaran



LKPD

BANGUN DATAR


5 WORD SEAERCH

Temukan tiga kata pada kotak di bawah ini:

S	S	I	S	I
M	U	L	I	N
O	S	D	K	T
D	K	C	U	K
U	G	X	M	T

6 SPEAK

Sebutkan nama bangun datar berikut dengan tepat:



7 LISTENING

Dengarkan suara berikut dan tuliskan dengan tepat:





LKPD

BANGUN DATAR

8

DRAG & DROP

Tentukan Rumus yang sesuai dengan gambar:



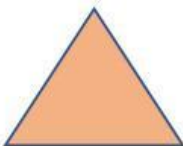
$$L = \frac{1}{2} \times \text{Alas} \times \text{tinggi}$$

$$L = \text{Panjang} \times \text{tinggi}$$

$$L = \pi \times r \times r$$

JOIN

Buatlah garis ke jawaban yang benar!





LKPD

BANGUN DATAR