

UNIDAD EDUCATIVA
9 DE MAYO

Nombre: _____

Curso: _____

1) Observe las imágenes y anote los nombres de los fenómenos naturales al cual pertenece





2) Lea cuidadosamente y seleccione la casilla correcta ante esta afirmación
“Las inundaciones son grandes cantidades de agua ocasionadas por lluvia”

Verdadero

Falso

3) Marca las opciones correctas
¿Cuáles de los siguientes son fenómenos naturales?

Terremoto

Huracán

Invasión

Erupción Volcánica

Trotar

4) Selecciona la opción correcta

Un terremoto ocurre cuando se mueven las placas de la _____

5) Arrastra según corresponda los desastres naturales

Vulcanismo







Sismo

Huaico

Sequía

Tsunami

Inundación

6) Relaciona cada imagen con las expresiones correctas de cómo actuar ante un sismo.

Desconectar los artefactos eléctricos.



Alejarse de los postes de luz.



Bajar con cuidado las escaleras.



Evitar colocarse debajo de la mesa, cuando el lugar no sea seguro.



Colocarse debajo del marco de la puerta.

