

REINOS DE LA NATURALEZA

INTEGRANTES:

Hernandez Chavez Erick Gabriel



Perez Rodriguez Leslie Monerrat



Rodriguez Ruiz Karla Angelica

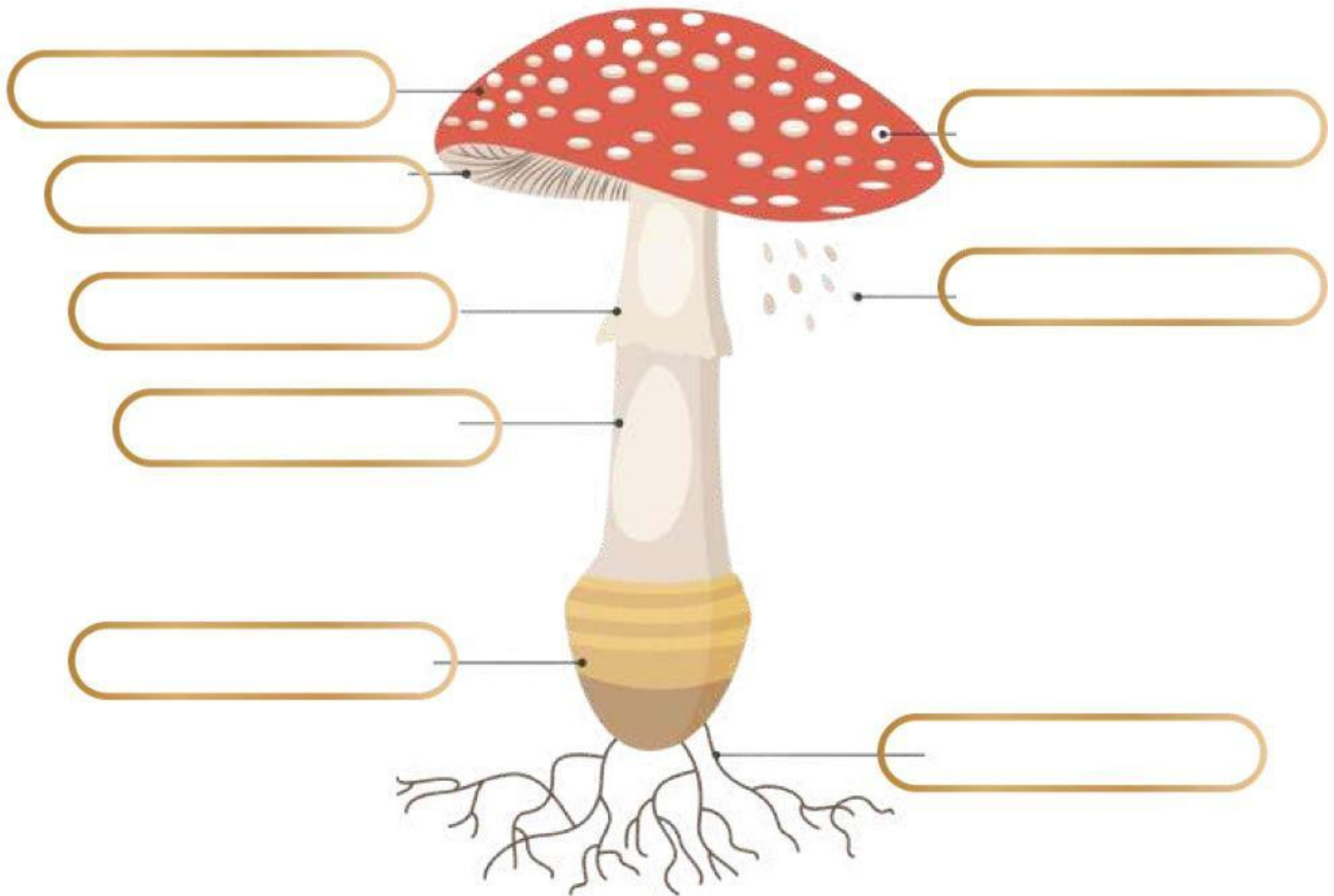


Romero Paramo Claudio



Reino fungi

Identifica cada parte del hongo



SOMBRERO

LAMINILLAS

ANILLO

ESPORAS

MICELIO

VOLVA

ESTIPE

ESCAMAS

Reino fungi

¿Cuál de estos pertenece al reino fungi?



Sabías

QUE



EL MICELIO FUNCIONA COMO UNA RED DE COMUNICACIÓN SUBTERRÁNEA. SI UN ÁRBOL SE ESTÁ MURIENDO, PUEDE ENVIAR NUTRIENTES A TRAVÉS DEL HONGO PARA SALVAR A OTROS ÁRBOLES JOVENES

Reino Protista

Haz clic en los intrusos



Reino Protista

Verdadero o falso

La mayoría de los seres del Reino protista son tan pero tan pequeños que solo se pueden ver usando microscopio



Los seres del Reino protista viven en el desierto, donde hace mucho calor y no hay nada de agua



Sabías
que?

EL REINO PROTISTA HACE BRILLAR AL MAR EN LA NOCHE!!!

A ESTE FENOMENO SE LE LLAMA BIOLUMINISCENCIA Y OCURRE GRACIAS A UNOS PROTISTAS QUE VIVEN EN EL AGUA LLAMADOS DINOFLAGELADOS

reino animal

1. Arrastra cada animal al grupo correcto: Vertebrados o Invertebrados






vertebrados



invertebrados




2. Ordena del 1 al 4 quién se come a quién en esta cadena de tu comunidad



3. Une cada grupo con su característica principal

| | |
|------------------|----------------------------------|
| Mamíferos | Tienen plumas |
| Aves | Amamantan a sus crías |
| Reptiles | Vida doble: agua y tierra |
| Peces | Respiran por branquias |
| Anfibios | Piel con escamas |

4. ¿Para qué le sirve al camello su joroba? Elige y une con la imagen del desierto




a) Guardar agua

b) Guardar grasa

c) Protegerse del sol

reino vegetal

1. Arrastra el nombre a la parte correcta de la planta



Raíz

Tallo

Hoja

Fruto

2. Coloca cada planta donde corresponde

| Con flor | sin flor |
|-----------------|-----------------|
| | |
| | |
| | |
| | |
| | |
| | |

Plantas:



Reino Monera

Nombra los componentes de la estructura del Reino Monera

PARED CELULULAR

CITOSOL

RIBOSOMAS

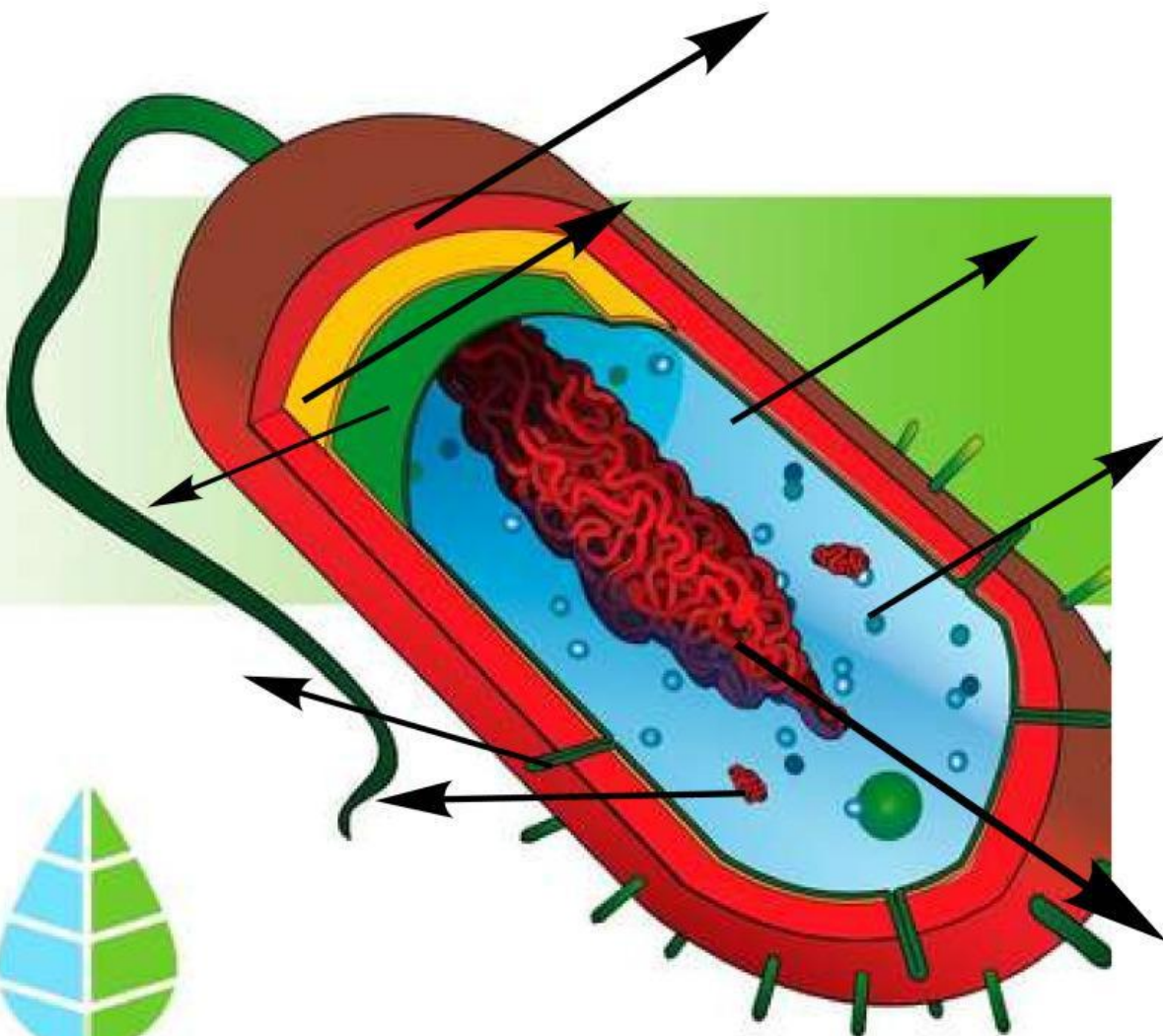
MEMBRANA

CAPSULA

NUCLEOIDE

PLÁSMIDO

PILOS



Reino Monera

Nombra las siguientes formas de bacterias

COCOS

DIPLOCOCOS

FLAGELADA

BACILOS

