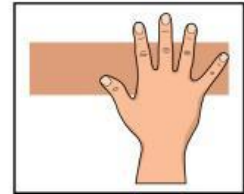


Nama :






Kelas :

MENGUKUR PANJANG BENDA

Kita bisa mengukur panjang benda di sekitar kita dengan berbagai alat ukur termasuk dengan satuan yang tidak baku seperti jengkal.



Ukurlah panjang 5 benda di bawah ini dengan menggunakan jengkal tanganmu, lalu tuliskan pada tabel berikut!

No.	Gambar Benda	Hasil Pengukuran
1.		_____ jengkal
2.		_____ jengkal
3.		_____ jengkal
4.		_____ jengkal
5.		_____ jengkal



MENGUKUR PANJANG BENDA

MEMBANDINGKAN
PANJANG BENDA



NAMA : _____ KELAS : _____

Perhatikan gambar di samping ini untuk menjawab nomor 1 dan 2!



- 1
- Penggaris hijau lebih _____ dari penggaris merah.
 - Penggaris merah lebih pendek dari penggaris _____
 - Penggaris hijau lebih pendek dari penggaris _____ dan _____
 - Penggaris hijau paling _____
- 2
- Penggaris _____ lebih panjang dari penggaris hijau.
 - Penggaris biru lebih _____ dari penggaris merah.
 - Penggaris biru lebih panjang dari penggaris _____ dan _____
 - Penggaris _____ paling panjang.

Perhatikan gambar di bawah ini untuk menjawab nomor 3 dan 4!



Kakak

Aldi

Adik

- 3
- Adik lebih rendah dari _____
 - Aldi lebih _____ dari Kakak.
 - Adik lebih rendah dari _____ dan _____
- 4
- _____ lebih tinggi dari Aldi.
 - Aldi lebih _____ dari Adik.
 - _____ lebih tinggi dari Aldi dan Adik.

Nama :

Kelas :

MENYAJIKAN DATA DALAM BENTUK TABEL

A. Membaca Tabel

Perhatikan tabel di bawah ini!

Nama Hewan	Jumlah
Kelinci	4
Ayam	7
Kambing	2
Sapi	3

Jawablah pertanyaan berikut!

1. Hewan apa yang jumlahnya paling banyak?

2. Berapa jumlah semua hewan?

3. Hewan apa yang jumlahnya paling sedikit?


4. Urutkan hewan berdasarkan jumlah dari yang paling sedikit ke paling banyak!

Nama :

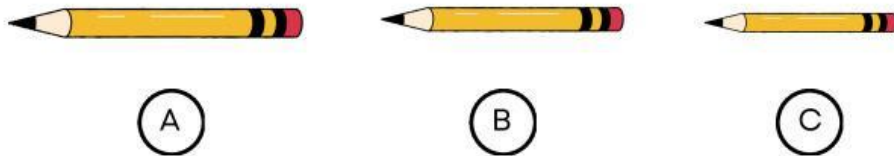
Kelas :

MENGURUTKAN BENDA DENGAN PENGUKURAN

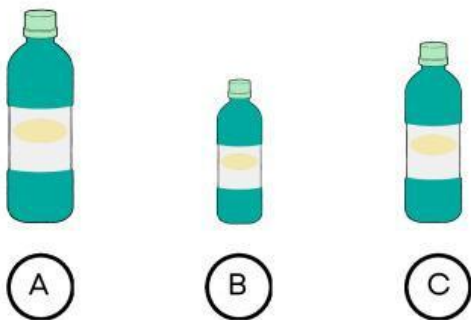
Perhatikan gambar berikut. Jawablah pertanyaan dibawah ini.



Urutkan pohon dari yang paling rendah _____



Urutkan pensil dari yang paling panjang _____



Urutkan botol minum dari yang paling pendek _____

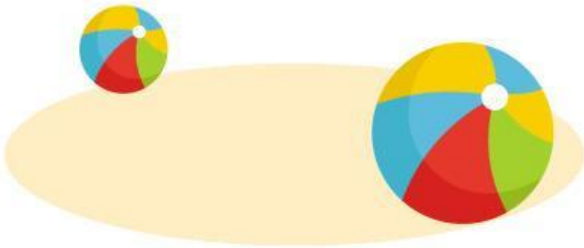
Nama: _____

Tanggal: _____

JAUH ATAU DEKAT

Perhatikan gambar, bandingkan lalu lingkari objek sesuai perintahnya

1. Lingkari bola yang lebih dekat



2. Lingkari mobil yang lebih jauh



3. Lingkari bebek yang lebih jauh



4. Lingkari kapal yang lebih dekat



5. Lingkari kuda yang lebih dekat



6. Lingkari monyet yang lebih jauh



Nama :

Kelas :

MENYAJIKAN DATA DENGAN DIAGRAM

Perhatikan mobil-mobilan di bawah ini!



Isilah tabel di bawah ini berdasarkan gambar di atas!






	Turus	Bilangan
Mobil hitam		
Mobil biru		
Mobil kuning		
Mobil merah		
Mobil hijau		

Tabel Pengolahan Data

Nama: _____

Kelas: _____

Data Buah Favorit

Buah	Turus	Jumlah
		
		
		
		
		

Jawablah pertanyaan berikut berdasarkan tabel data!

Buah apa yang paling banyak disukai siswa?

Buah apa yang paling sedikit disukai siswa?

Berapa selisih siswa yang menyukai buah pisang dan buah semangka?

Hitunglah seluruh buah yang disukai siswa?

Berapa selisih siswa yang menyukai buah jeruk dan buah strawberry?

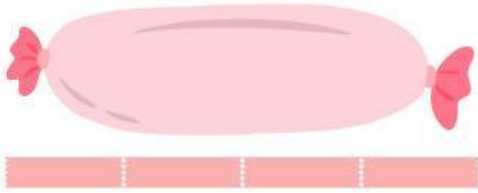
Berapakah jumlah siswa yang menyukai buah jeruk dan apel??

Nama:


Kelas:

PENGUKURAN PANJANG DENGAN SATUAN TAK BAKU

Tentukan hasil pengukuran panjang benda berikut.



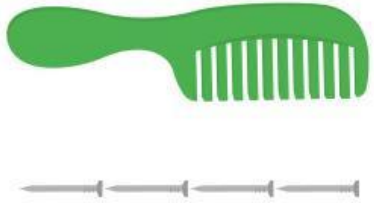
Panjang guling = ____ solatip.




Panjang sapu = ____ solatip.




Panjang gitar = ____ paku.



Panjang sisir = ____ paku.



Panjang pensil = ____ korek api.



Panjang pasta gigi = ____ korek api.

Nama:

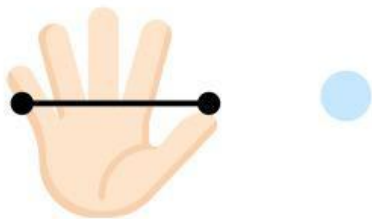
Kelas:

Alat Ukur Panjang

Tarik garis untuk memasangkan alat ukur tidak baku dengan namanya.



Langkah



Depa



Hasta




Jengkal

Menyajikan Data dalam Tabel!



Panduan

Perhatikan data berikut, lalu tuliskan ke dalam tabel dengan rapi, ya!



	Blueberry	Lemon	Semangka	Stroberi	Alpukat	Jeruk
Data Jumlah Buah						

Nama:

Kelas: