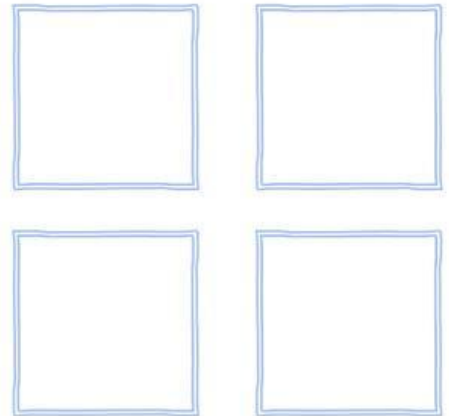



Nombre

Escuela

¡Ayuda a la maestra!

1. La maestra Betshua tiene 8 manzanas para compartir con sus compañeras maestras. Si son 4, ¿cuántas manzanas les toca a cada una? Agrega las manzanas que le tocaría a cada una, en cada cuadrito.



Encuentra la figura correcta

2. ¿Cuál de las siguientes figuras es un cuadrado? Dale clic a la respuesta correcta.



¡Ayuda al astronauta!

3. En una nave espacial, la astronauta Daniela está contando energía para despegar. La computadora le muestra esta secuencia: 6, 12, 18, 24, __, __,-

Daniela debe completar la serie para encender los motores. Ayúdala a completar la secuencia.



6, 12, 18, 24, __, __,




Nombre

Escuela


¡Vamos por el premio!

4. En la feria de la escuela, hay un juego donde los niños deben juntar figuras.

Grecia encontró estas piezas:

-  3 triángulos
-  2 círculos
-  4 cuadrados


Para ganar un premio, debe responder: ¿Cuántas figuras juntó en total?



Si regala 1 cuadrado a su amigo, ¿cuántos cuadrados le quedan?

¡Hora de cocinar!

5. La chef Anid está preparando pizzas para sus clientes. Tiene 4 quesos, 3 jitomates y 2 champiñones para cocinar. Ayúdala a descubrir cuántos ingredientes tiene en total y cuál ingrediente aparece más veces.



Da clic en la respuesta correcta:

¿Cuántos ingredientes tiene en total?

- 7
- 12
- 9

¿Qué ingrediente aparece más veces?

