

แบบทดสอบก่อนสอบ : การแปรวัติฐานของแผ่นธรณี (Plate tectonics)

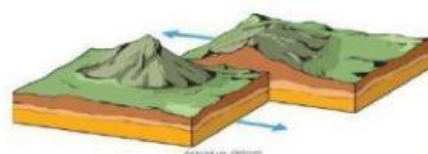
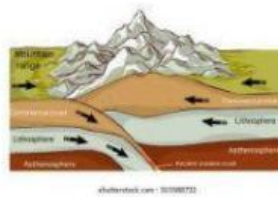
ชื่อ-สกุล.....เลขที่.....ชั้น.....

1. หลักฐานต่อไปนี้ใช้ประกอบการสนับสนุนทฤษฎีในข้อใด (สามารถตอบซ้ำได้)

หลักฐาน	ทฤษฎีทวีปเลื่อน (Continental drift)	ทฤษฎีการแผ่ ขยายพื้นสมุทร	ทฤษฎีธรณีแปร สัณฐาน
1) ซากดึกดำบรรพ์ไซโนแททส์ และมีไซซอร์รัส			
2) รอยเลื่อนในแนวระนาบ			
3) หุบเขาทรงค			
4) ภาวะแม่เหล็กโลกบรรพกาล			
5) หมู่เกาะภูเขาไฟรูปโค้ง			
6) การเคลื่อนที่ของตะกอนธารน้ำแข็ง			
7) ลอเรเซีย และกอนด์วานาแลนด์			
8) ความคล้ายคลึงกันของกลุ่มหิน			
9) วงจรการพาความร้อน			
10) สันเขากลางสมุทร			
11) ฟันเจีย			
12) อายุหินบะซอลต์บนพื้นมหาสมุทร			

2. ลักษณะธรณีฐานต่อไปนี้ เกิดจากการเคลื่อนที่ของแผ่นธรณีรูปแบบใด

1. หมู่เกาะภูเขาไฟรูปโค้ง
2. สันเขากลางสมุทร
3. ร่องลึกก้นสมุทร
4. หุบเขาทรงค
5. แนวภูเขาไฟสายฝั่ง
6. เทือกเขาสูง
7. แนวรอยเลื่อนขนาดใหญ่



3. ภาพต่อไปนี้ เป็นลักษณะธรณีสัณฐานแบบใด และเกิดจากการแปรสัณฐานของแผ่นธรณีรูปแบบใด



ธรณีสัณฐาน.....
เกิดจาก.....



ธรณีสัณฐาน.....
เกิดจาก.....



ธรณีสัณฐาน.....
เกิดจาก.....



ธรณีสัณฐาน.....
เกิดจาก.....



ธรณีสัณฐาน.....
เกิดจาก.....



ธรณีสัณฐาน.....
เกิดจาก.....



4. พิจารณาข้อความต่อไปนี้ว่า ถูก หรือ ผิด

.....1) หินบะซอลต์ที่พบใกล้รอยแยกบริเวณเทือกสันเขาใต้สมุทรจะมีอายุอ่อนกว่าหินบะซอลต์ที่อยู่ไกลจากรอยแยกออกไป

.....2) เมื่อแผ่นธรณีมหาสมุทรเกิดรอยแยกและเคลื่อนที่ออกจากกันอย่างช้าๆ จะมีเนื้อหินแกรนิตจากส่วนล่างแทรกดันขึ้นมาตรงรอยแยกเกิดเป็นชั้นธรณีภาคใหม่

.....3) วงจรการพาความร้อนเป็นกระบวนการที่ทำให้เกิดการเคลื่อนที่ของแผ่นธรณี

.....4) อัลเฟรด เวกเนอร์ เป็นผู้เสนอทฤษฎีการแผ่ขยายหินสมุทร

.....5) บริเวณทะเลแดงเกิดจากการเคลื่อนที่ชนกันของแผ่นธรณีมหาสมุทรกับแผ่นธรณีทวีป

.....6) เทือกเขาหิมาลัยเกิดจากการเคลื่อนที่ชนกันของแผ่นทวีปยูเรเชีย และแผ่นทวีปอินเดีย-ออสเตรเลีย

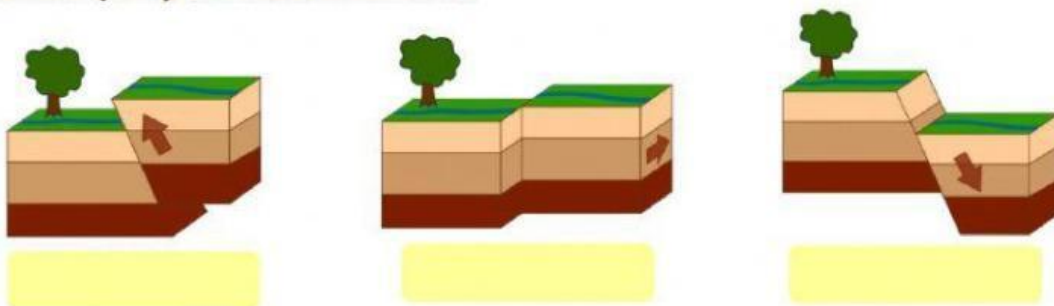
.....7) ในอดีตประเทศไทยเคยเป็นส่วนหนึ่งของทวีปออสเตรเลีย

.....8) ร่องลึกก้นสมุทรเกิดขึ้นบริเวณกลางมหาสมุทรแอตแลนติก

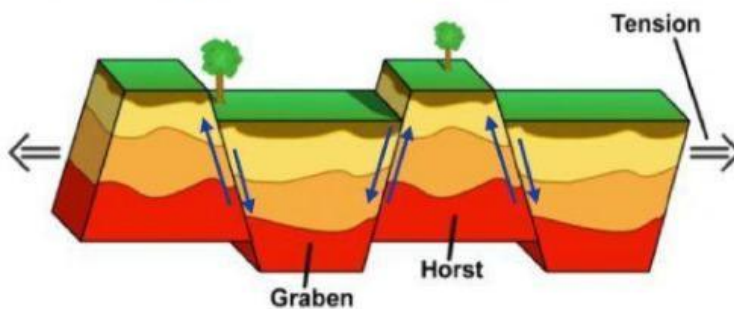
.....9) รอยเลื่อนซานแอนเดรียสเกิดจากการเคลื่อนที่เข้าหากันของแผ่นทวีป

.....10) ภาวะแม่เหล็กโลกบรรพกาลของหินมหาสมุทรเป็นหลักฐานยืนยันการเคลื่อนที่ออกจากกันของแผ่นทวีป

5. รอยเลื่อน (fault) ในภาพเป็นรอยเลื่อนแบบใด



6. จากภาพการเกิด กราเบน (graben) และฮอร์สต์ (horst)



รอยเลื่อนในภาพเป็นรอยเลื่อนแบบใด

